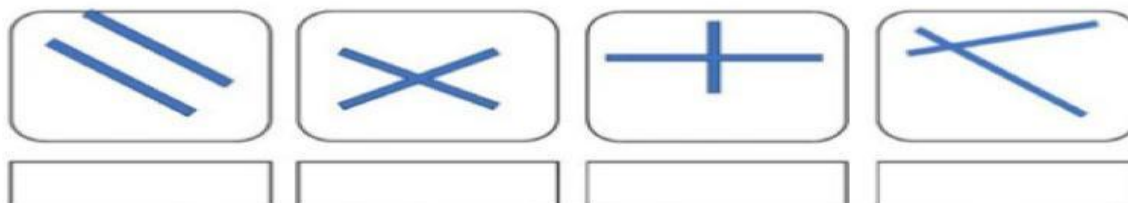


PENSAMIENTO MATEMÁTICO

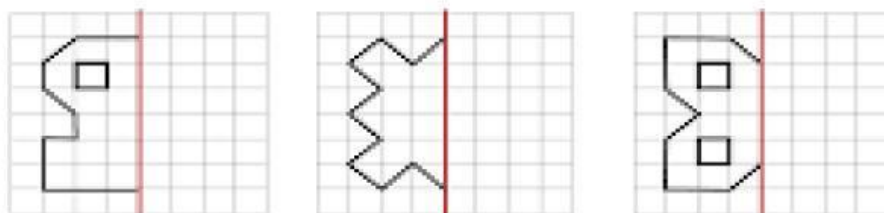
Nombre: _____ 4° _____ Acierto= _____ Calificación= _____

Lee y responde correctamente cada uno de los siguientes cuestionamientos.

1.- Escribe el nombre de las líneas, según corresponda.




2.- Realiza las siguientes figuras respetando su simetría.



3.- Traza los ejes de simetría de las siguientes figuras.




4-5.- Completa las siguientes tablas de proporcionalidad y escribe la razón.



	3	5	9	8	7	10
x	12					

Razón: _____



	9	11	15	20	7	4
x						28


Razón: _____

6-9.- Lee la siguiente información, completa la tabla de frecuencias y gráfica.

*Se preguntó a algunos estudiantes de 4º: ¿Cuántos minutos diarios dedican a la lectura?
Las respuestas fueron:

- 15 15 30 45 30 45 45 15 30 60
- 45 60 30 15 45 30 45 30 45 30
- 60 15 15 30 15 30 15 30 15 30

Tiempo diario dedicado a la lectura		
Número de minutos	Conteo	Número de estudiantes
15		
30		
45		
60		



10.- Completa la siguiente sucesión de figuras y escribe su regularidad.




fig. 1




fig. 2




fig. 3




fig. 4

fig.5

Regularidad: _____

11-14.- Resuelve las siguientes operaciones.

	5	7	5	8
	3	1	3	5
	5	8	2	7
+	5	3	7	2

	5	8	0	2	2
-		3	5	2	8

		2	8	8
×		3	8	

$$12 \overline{)816}$$