

LKPD

Ilmu Pengetahuan Alam

Siklus pada Makhluk Hidup

Nama: _____

Kelas: _____




Siklus Hidup Manusia

Makhluk hidup butuh berkembang biak untuk mempertahankan keturunan.

- Perhatikan gambar di bawah ini.
- Isilah titik-titik sesuai gambar.



Siklus Hidup Manusia



Gambar nomor berapa yang mirip dengan kondisi kalian saat ini?

Perkembangbiakan Hewan

Hubungkan gambar hewan dengan cara berkembangbiak yang sesuai.




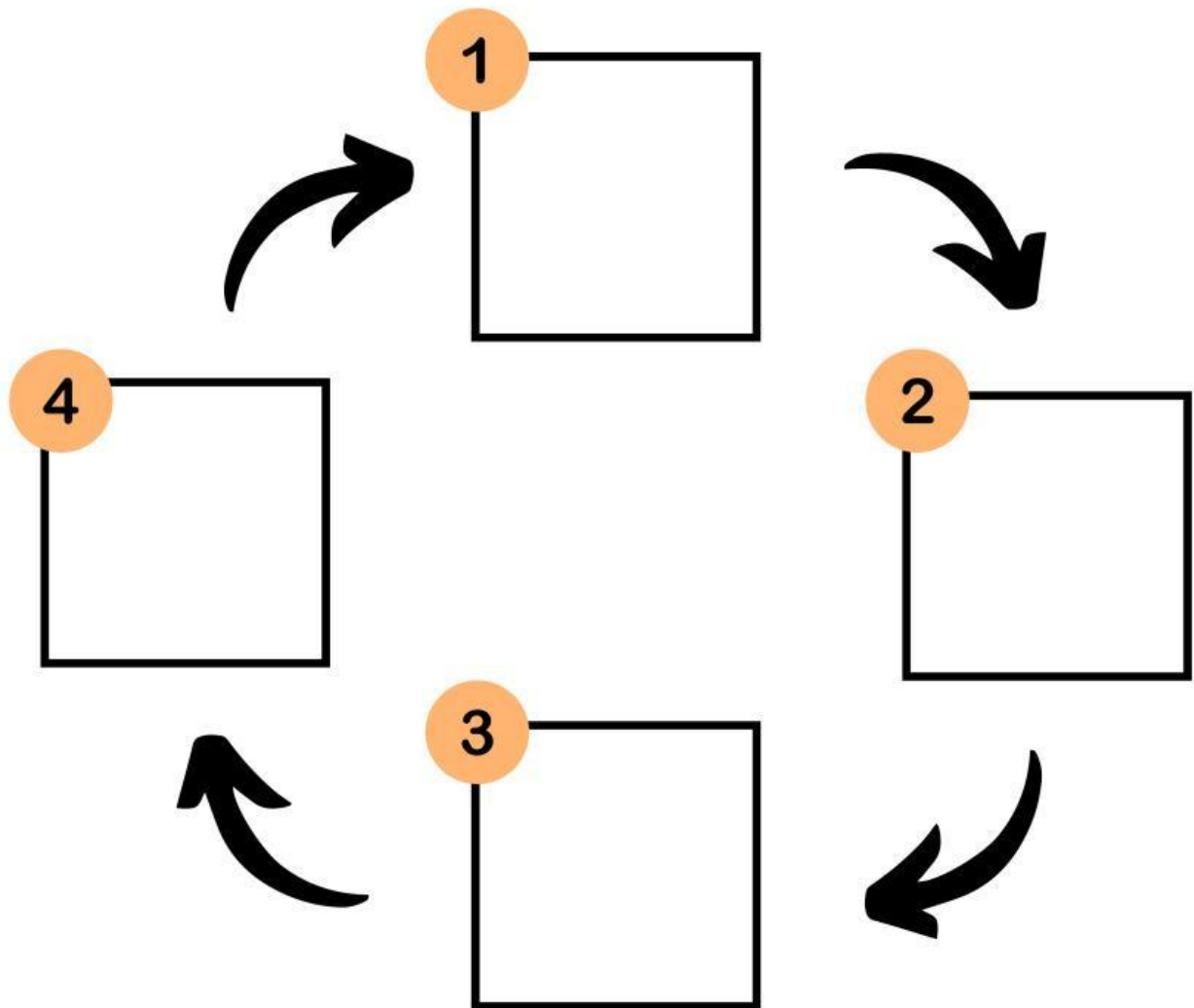
Bertelur
(Ovipar)

Melahirkan
(Vivipar)

Bertelur dan
Melahirkan
(Ovovivipar)









METAMORFOSIS NYAMUK

Tempelkan pada kotak yang tepat proses metamorfosis nyamuk di bawah ini!



PERKEMBANGBIAKAN TUMBUHAN

Pilihlah cara perkembangbiakan tumbuhan berikut dengan benar!

 SEMANGKA	<div></div> <div></div>	 MANGGA
 JAGUNG	<div></div> <div></div>	 JAHE
 KACANG	<div></div> <div></div>	 ANGGUR
 CABAI	<div></div> <div></div>	 MELATI

Simak video di bawah ini!



Berdasarkan video di atas, berilah tanda (v) pada kolom benar atau salah sesuai dengan pernyataannya

Pernyataan	Benar	Salah
Perkembangbiakan vegetatif memiliki 2 induk dan sifatnya sama persis dengan kedua induknya		
Masa pubertas pada laki-laki datang terlebih dahulu dibandingkan perempuan		
Ovovivipar adalah perkembangbiakan pada hewan dengan cara bertelur dan melahirkan		