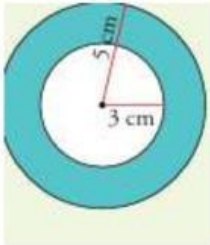


## Ejercicios de Geometría

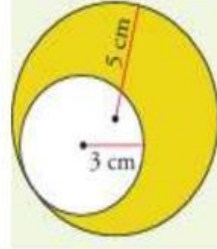
1. Halla el área coloreada de las siguientes figuras (aproxima con dos decimales):

a)



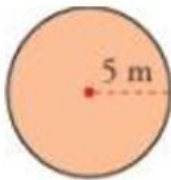
Área:

b)



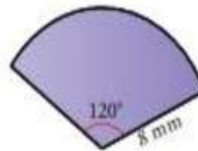
Área:

c)



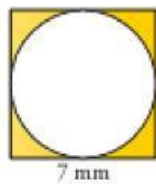
Área:

d)



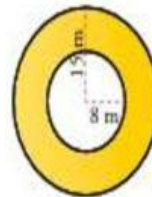
Área:

e)



Área:

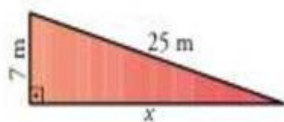
f)



Área:

2. Calcula el área y el perímetro de las siguientes figuras:

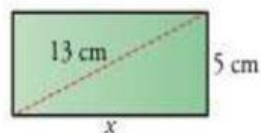
a)



Área:

Perímetro:

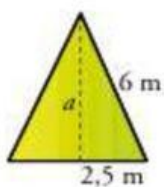
b)



Área:

Perímetro:

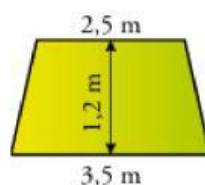
c)



Área:

Perímetro:

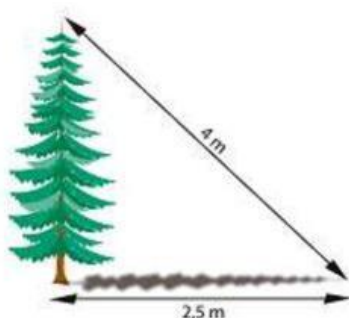
d)



Área:

Perímetro:

3. Al atardecer, un árbol proyecta una sombra de 2,5 metros de longitud. Si la distancia desde la parte más alta del árbol al extremo más alejado de la sombra es de 4 metros, ¿cuál es la altura del árbol?



Altura: