

LKPD



Lembar Kerja Peserta Didik

Ilmu Pengetahuan Alam & Sosial

TEMA 3

“PEDULI TERHADAP MAKHLUK HIDUP”

SUBTEMA 1

“HEWAN DAN TUMBUHAN DIRUMAHKU”



Nama : _____

Kelas : _____

PETUNJUK Pengerjaan LKPD

1. Berdoa sebelum mengerjakan lembar kerja peserta didik
2. Kerjakan LKPD yang di berikan dengan Jujur
3. Ikutilah langkah-langkah yang di berikan
4. jawablah pertanyaan dengan teliti pada link liveworksheet yang di sediakan
5. Periksa kembali sebelum kalian menekan Tombol FINISH
6. setelah menekan tombol FINISH, di harapkan melihat halaman pertama kembali. Nilai akan terdapat di samping nama.
7. Nilai akan muncul pada halaman muka/cover Lembar kerja peserta didik

SELAMAT MENGERJAKAN!



Kopetensi Dasar

- 3.1 MENGANALISIS HUBUNGAN ANTARA BENTUK DAN FUNGSI BAGIAN TUBUH HEWAN DAN TUMBUHAN
- 4.1 MENYAJIKAN LAPORAN HASIL PENGAMATAN TENTANG BENTUK DAN FUNGSI BAGIAN TUBUH HEWAN DAN TUMBUHAN



Muatan Pembelajaran

**BAGIA-BAGIAN
TUMBUHAN**



TUJUAN PEMBELAJARAN



**SETELAH PEMBELAJARAN PESERTA
DIDIK DAPAT MENENTUKAN BAGIAN
TUMBUHAN DAN FUNGSINYA**



PERHATIKAN VIDEO PEMBELAJARAN DI BAWAH INI !





Bagian tumbuhan dan Fungsinya



Bagian Tumbuhan Dan Fungsinya

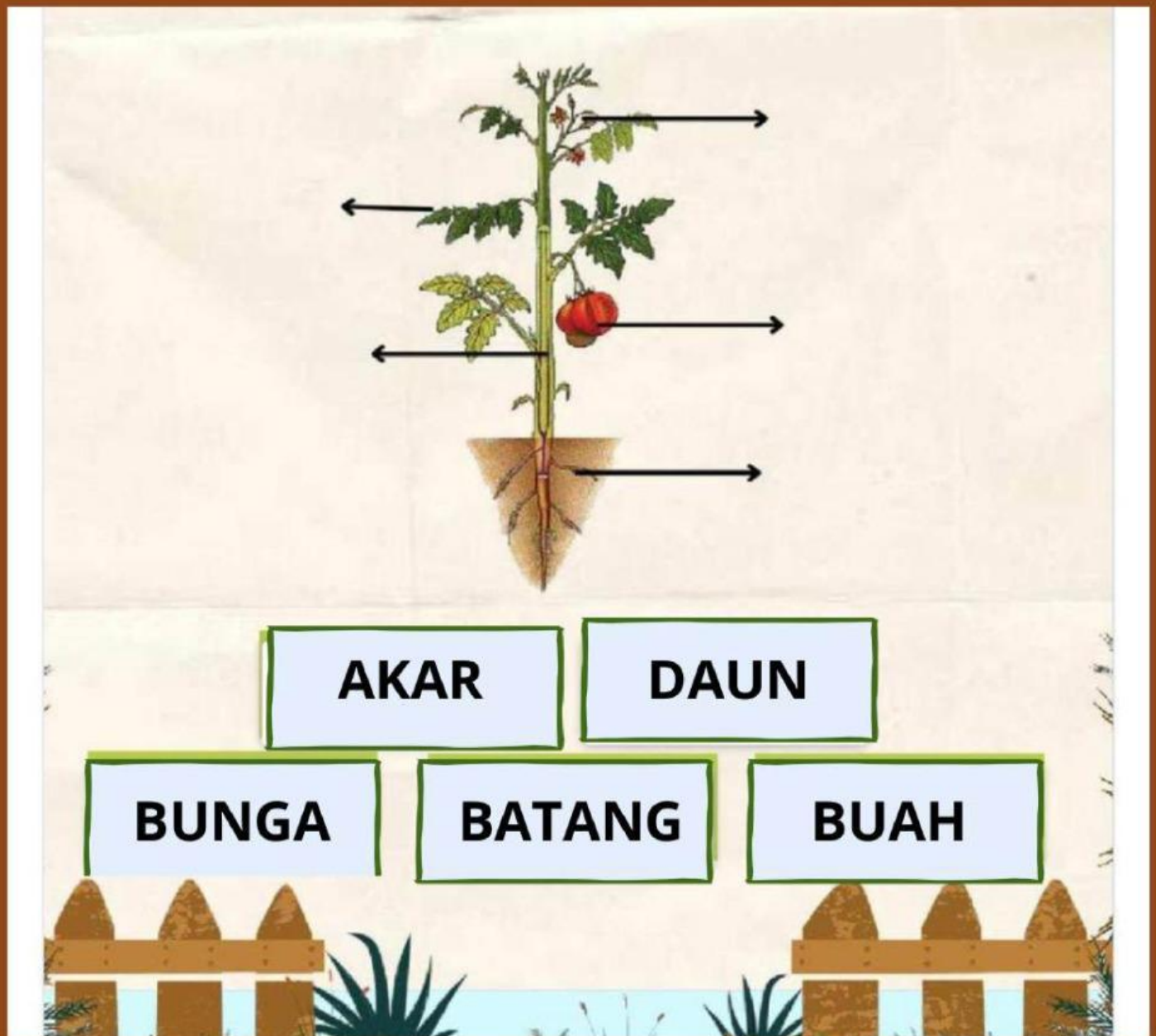
- **Daun** : Daun itu seperti "dapur" atau "pabrik makanan" untuk tanaman. Di daun, tanaman membuat makanannya sendiri dari sinar matahari, air, dan udara.
- **Batang** : Batang itu seperti "tiang" atau "pipa" yang kuat. Fungsinya untuk menopang tanaman agar bisa berdiri tegak dan juga mengantarkan air serta makanan dari akar ke daun, dan makanan dari daun ke seluruh bagian tanaman.
- **Akar** : Akar itu seperti "jangkar" atau "sedotan" yang ada di bawah tanah. Akar menahan tanaman agar tidak roboh dan juga menyerap air serta nutrisi (makanan) dari dalam tanah.
- **Bunga** : Bunga itu bagian tanaman yang indah dan berwarna-warni. Bunga adalah tempat tanaman membuat "benih" atau "bibit" baru agar bisa punya teman tanaman yang lain.
- **Buah** : Buah itu seperti "rumah" atau "wadah" untuk biji. Buah juga seringkali manis dan bisa dimakan, tujuannya agar hewan atau manusia membantu menyebarkan bijinya.
- **Biji** : Biji itu seperti "telur" atau "bayi" tanaman. Kalau ditanam, dari biji ini bisa tumbuh tanaman baru lagi.



TUGAS 1

kerjakan soal-soal dibawah ini dengan tepat!



1. Jodohkan dengan cara menyeret tabel bagian-bagian bunga di kolom sebelah kanan ke bagian tanda panah yang tepat.



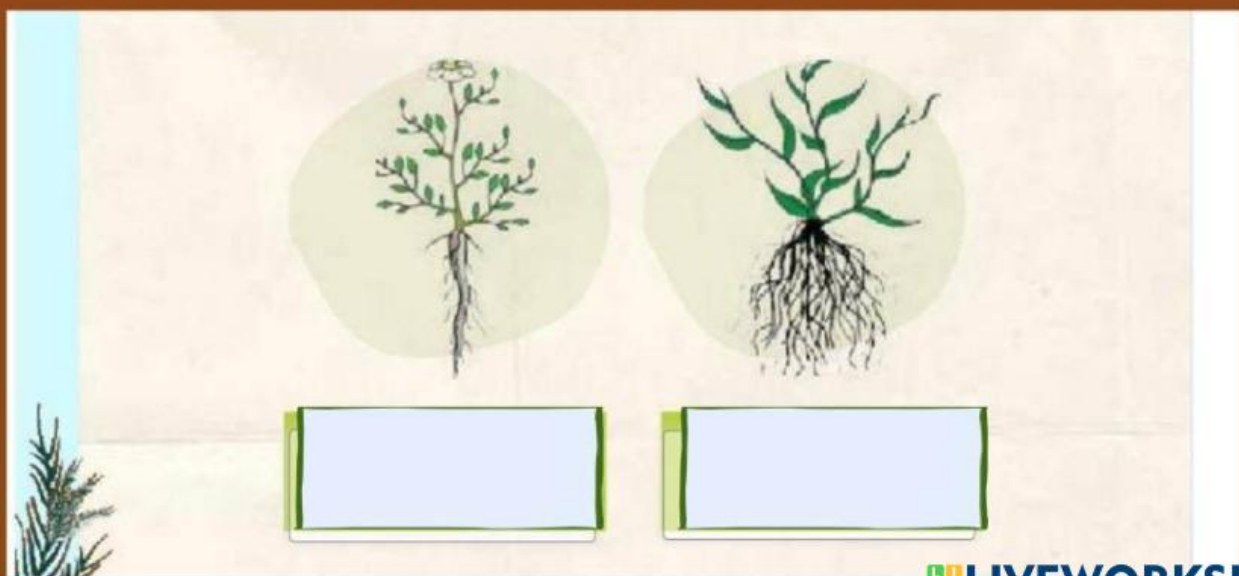


TUGAS 2

2. Buatlah garis pasangan yang tepat

BAGIAN TUMBUHAN	FUNGSIONYA
	Sebagai alat perkembangbiakan (reproduksi) tumbuhan biji
	Sebagai tempat berlangsungnya proses fotosintesis
	Sebagai penopang tumbuhan agar dapat berdiri dengan tegak

3. Pilihlah nama yang sesuai dengan gambar di bawah ini !





TUGAS 3

4. Carilah 3 kata di bawah ini yang merupakan bagian-bagian bunga

h	k	e	l	o	p	a	k
m	b	n	o	i	s	m	c
a	a	l	m	k	n	i	c
h	d	i	a	h	u	c	y
k	o	m	j	i	s	o	l
o	u	f	i	l	p	n	s
t	w	l	p	u	t	i	k
a	e	b	d	s	y	k	n