



Lembar Kerja Peserta Didik

LKPD

MATEMATIKA

Pecahan Senilai Kelas 4 SD

Nama

Kelas

No Absen

Kelompok



Tujuan Pembelajaran

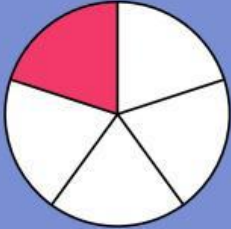
Anak-anak, setelah mempelajari materi pecahan senilai, Bapak harap anak-anak dapat Mengenal dan dapat mencari pecahan yang nilainya sama besar.

Mari kita belajar dan berdiskusi bersama!

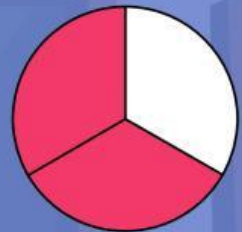
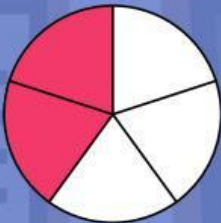
Ayo Mencocokkan!

Cocokkan setiap pecahan senilai di bawah dengan cara menarik garis untuk menghubungkannya!

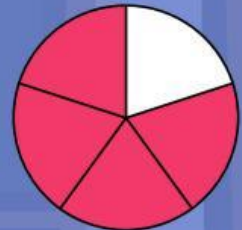
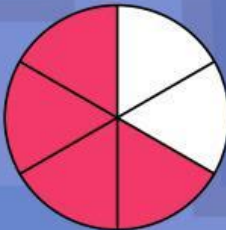
1.



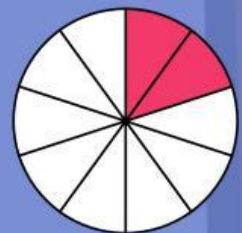
2.



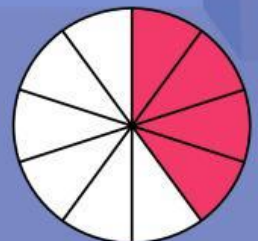
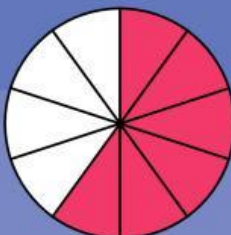
3.



4.



5.



Ayo Mencoba!

Ikutilah petunjuk yang ada dibawah, kemudian cheklist kotak di samping jika setiap petunjuk sudah dilakukan!

1. Bentuklah sebuah kelompok bersama teman-teman mu beranggotakan 4 orang

☐

2. siapkan masing-masing dari teman mu 1 lembar kertas

☐

$$\frac{2}{4}$$

$$\frac{3}{6}$$

$$\frac{4}{8}$$

$$\frac{6}{12}$$

3. Lipat dan warnailah kertas sesuai dengan pecahan yang diberikan guru di atas!

☐

4. Setelah selesai, diskusikan bersama teman kelompokmu untuk mencocokkan mana saja pecahan senilai yang ada di kelompokmu

☐

5. Tuliskan alasan mengapa pecahan punyamu dan temanmu besarnya sama?

☐

6. Kemudian presentasikan di depan kelas bersama teman kelompokmu!

☐

Ayo Cermati!

Bacalah cerita pendek dibawah ini dengan cermat, kemudian isilah pertanyaan yang disajikan!

Di kelas 5 SD Nusantara, setiap hari jumat mereka membawa buah dari rumah. buah-buahan yang dibawa antara lain: $\frac{1}{2}$ bagian semangka, $\frac{2}{4}$ bagian semangka, $\frac{3}{6}$ bagian semangka, dan $\frac{4}{8}$ bagian semangka. mereka membagi buah ke seluruh siswa secara adil. ternyata semua bagian semangka itu memiliki ukuran yang sama besar.

Apa kegiatan yang dilakukan siswa kelas 5 SD nusantara setiap hari jumat?

Tuliskan pecahan-pecahan semangka yang disebutkan dalam teks!

Sebutkan pecahan mana saja yang ada dalam cerita pendek di atas!