

T8. CIRCUITOS ELÉCTRICOS

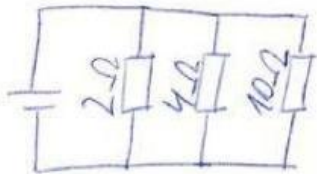
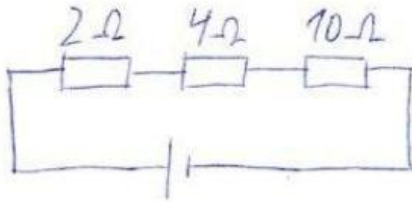
1. Identifica las siguientes transformaciones energéticas:

Circuito en serie

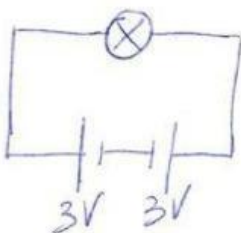
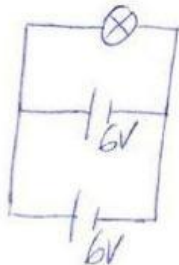
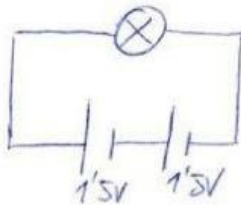
Circuito en paralelo

Si desconectas una bombilla, el resto sigue funcionando	Gasta menos electricidad

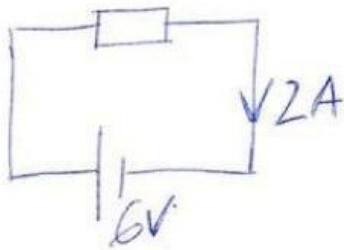
2. Calcula la resistencia total:



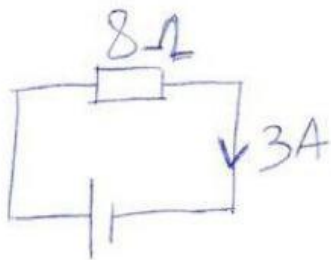
3. Calcula el voltaje total:



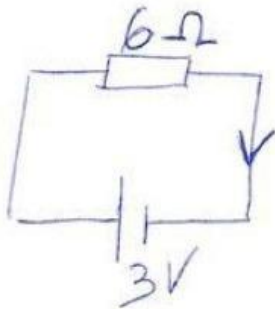
4. Calcula el parámetro faltante en cada caso:



Resistencia:



Voltaje:



Intensidad: