



SD Negeri 2 Kebakalan

LKPD

Lembar Kerja Peserta Didik

MATEMATIKA



Untuk siswa kelas III Sekolah Dasar

Disusun oleh : Arum Sasi, S.Pd.

Lembar Kerja Peserta Didik

Satuan Pendidikan : SDN 2 Kebakalan
Mata Pelajaran : Matematika
Kelas / Semester : III (Tiga) / Genap
Materi : Analisis Data
Alokasi Waktu : 2 x 35 menit

Tujuan Pembelajaran

Peserta didik dapat mengurutkan, membandingkan, menyajikan, menganalisis dan menginterpretasi data dalam bentuk tabel, diagram gambar, pictogram, dan diagram batang (skala satu satuan).

Indikator Ketercapaian Tujuan Pembelajaran

1. Mengurutkan data dari terkecil ke terbesar dengan benar.
2. Membandingkan data dengan benar.
3. Menyajikan data dalam bentuk tabel dengan benar.
4. Menentukan data paling banyak dan paling sedikit dalam bentuk tabel dengan benar.

Petunjuk pengisian

1. Berdoa sebelum memulai mengerjakan LKPD
2. isilah identitas diri terlebih dahulu
3. Baca setiap petunjuk dengan cermat, lalu identifikasikan
4. Tuliskan hasil pekerjaan pada kolom yang telah disediakan
5. Hasil pekerjaan di presentasikan di depan kelas bersama dengan produk dan dikumpulkan ke guru

Lembar Kerja Peserta Didik

Nama :

No Urut :

Lembar Kerja Peserta Didik

Pak Budi Gunawan adalah wali kelas III di SD Cemerlang. Hari ini Pak Budi melakukan pengukuran tinggi badan siswa kelas III.

Berikut adalah data tinggi badan tersebut.

| | | | | | |
|--------|--------|--------|--------|--------|--------|
| 130 cm | 132 cm | 130 cm | 131 cm | 129 cm | 129 cm |
| 129 cm | 130 cm | 131 cm | 132 cm | 130 cm | 130 cm |
| 130 cm | 131 cm | 131 cm | 130 cm | 129 cm | 131 cm |
| 132 cm | 130 cm | 130 cm | 129 cm | 131 cm | 130 cm |

Berdasarkan data tersebut, urutkan data tinggi badan siswa dari yang terkecil!

(seret angka di atas ke dalam kotak di bawah ini!)

| | | | | | |
|--|--|--|--|--|--|
| | | | | | |
| | | | | | |
| | | | | | |
| | | | | | |

Lembar Kerja Peserta Didik



Di kelas Rani, jumlah siswa yang membawa bekal berbeda-beda setiap hari. Pada hari Senin ada 6 siswa, Selasa 8 siswa, Rabu 10 siswa, Kamis 7 siswa, dan Jumat 5 siswa yang membawa bekal.

Pertanyaan :

1


Pada hari apa jumlah siswa yang membawa bekal paling banyak?

2

Pada hari apa jumlah siswa yang membawa bekal paling sedikit?






Lembar Kerja Peserta Didik

Amati gambar di bawah ini



Buatlah tabel berdasarkan gambar di atas.

Tabel Data Buah Favorit

| Buah | Turus | Lambang Bilangan |
|---|-------|------------------|
|  | | |
|  | | |
|  | | |
|  | | |
|  | | |

Lembar Kerja Peserta Didik

Tabel mengikuti lomba

| Lomba | Banyak siswa |
|----------|--------------|
| Mewarnai | 7 |
| Renang | 6 |
| Catur | 5 |
| Lari | 9 |
| Menyanyi | 8 |

Setelah mengamati tabel di atas, jawablah pertanyaan-pertanyaan di bawah ini sesuai petunjuk dengan tepat

A. Select (Pilihan ganda)

Klik pada jawaban yang dianggap benar.

1. Banyak Siswa yang mengikuti lomba renang adalah

....

- a. 9 siswa
- b. 7 siswa
- c. 6 siswa

2. Lomba yang paling banyak diikuti oleh siswa adalah lomba

- a. menyanyi
- b. mewarnai
- c. lari