

LATIHAN MATEMATIKA

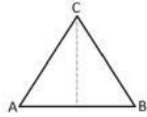
NAMA :

NO. ABSEN :

KELAS :

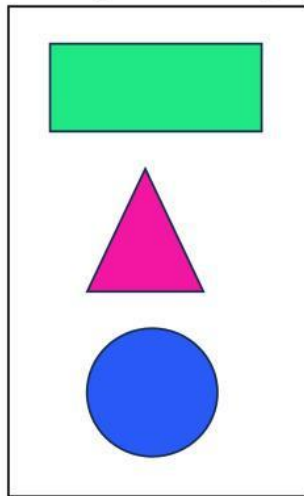
Kerjakan latihan berikut ini dengan tepat dan benar!

1. Bangun datar di bawah ini adalah




- a. Persegi
- b. Segitiga
- c. Trapesium
- d. Jajargenjang

2. Panjang kali lebar adalah rumus luas bangun
3. Tariklah garis sesuai dengan jawaban yang benar!



4. Isilah rumus luas yang sesuai dengan bangun datarnya!



5. Pilihlah nama bangun yang sesuai dengan gambar!

