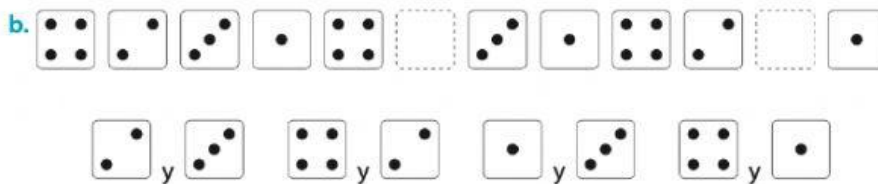
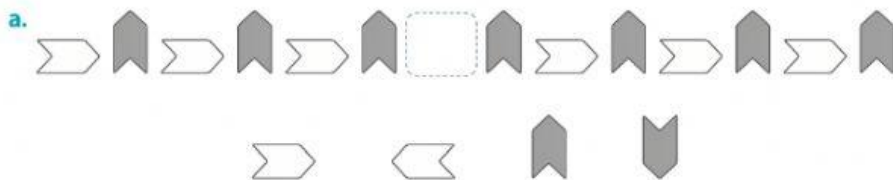


Patrones

1. Encierra un patrón en cada secuencia.



2. Encierra la o las figuras que faltan para completar las secuencias.




3. Escribe los 3 términos que podría continuar cada secuencia.

a. 1, 2, 3, 3, 2, 1, 1, 2, 3, , , .

b. 8, 1, 8, 8, 1, 8, 8, 8, 1, , , .

4. Completa con el patrón numérico que podría generar cada secuencia.



5. Continúa la secuencia a partir del patrón dado.

