

Sede San Cristóbal  
 Segunda Unidad  
 Ciencias naturales  
 Tercero Primaria  
 Profesora: Josselin Castillo

## Evaluación final No. 2

Nombre: \_\_\_\_\_  
 Sección: \_\_\_\_\_ Fecha: \_\_\_\_\_

**INSTRUCCIONES GENERALES:** lee con atención las instrucciones de cada serie y realiza lo que se te solicita. Trabaja con lápiz únicamente y evita el uso de calculadora o cualquier material de apoyo. Debes dejar constancia de tus procedimientos, en hojas adicionales que se proporcionan.




### Serie I

**Instrucciones:** Clasifique cada imagen donde le corresponda.



 <b>Vivíparos</b>	 <b>Ovíparos</b>	<b>E.I. MIRAFLORES</b>	
			
			
			
			






## Serie II

**Instrucciones:** Encuentra en la siguiente sopa de letras las imágenes que se le muestran a continuación de los seres vivos.

1  2  3 

**SERES VIVOS**

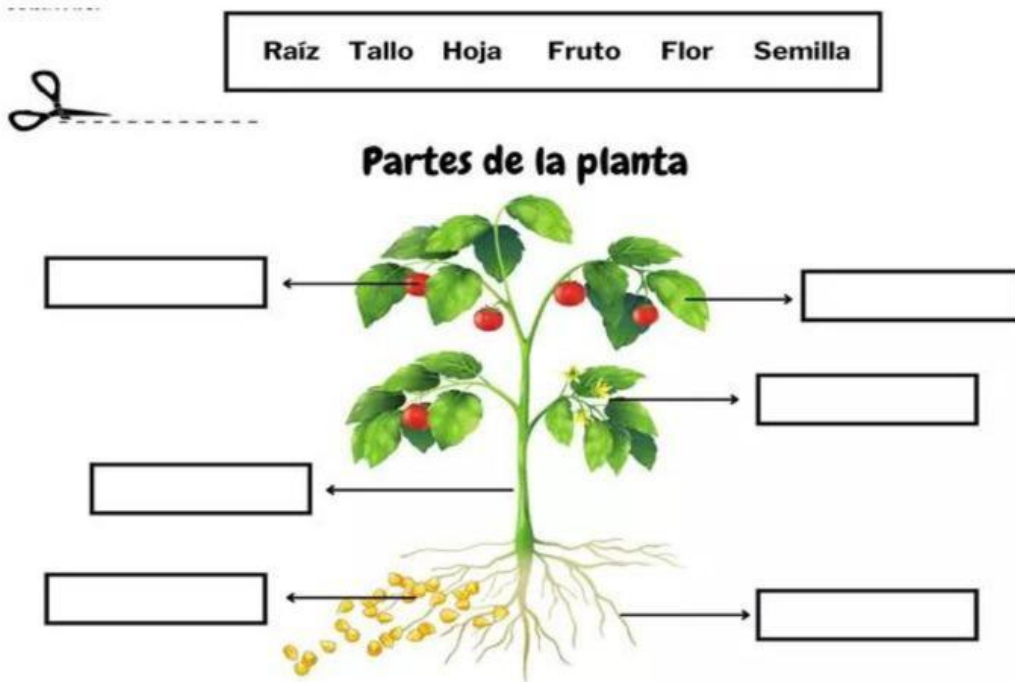
4  5 

6  7  8  9  10 

L	L	T	I	G	R	E	A	O	A
Z	G	O	B	D	P	T	R	F	R
V	R	A	B	C	M	O	O	D	B
P	J	D	L	O	L	J	U	B	O
E	B	V	U	L	E	R	R	J	L
R	U	K	N	N	I	P	W	H	R
R	T	W	O	J	I	N	E	Z	W
O	Z	C	H	M	V	J	A	Z	Q
H	O	M	B	R	E	T	U	P	X
I	M	K	H	P	A	L	O	M	A

### Serie III

**Instrucciones:** Escriba cada parte de la planta donde le corresponda y luego ordene el ciclo de la planta escribiendo los números que correspondan.



### Crecimiento de una planta



Serie IV

**Instrucciones:** Selecciona el número que le corresponda a la imagen sobre el ciclo de las plantas.

1

2

3

4


5

6



# El Ciclo de Vida de las Plantas





Jehová es mi pastor; nada me  
faltará"

"Salmo 23:1: