



Lembar Kerja Peserta Didik

LKPD

Bangun Datar



Stevy Nurfani Putri
22129368

Nama:

anggota

IDENTITAS LKPD

Instansi	: SD N 27 Anak Air
Tahun Penyusunan	: 2025
Jenjang Sekolah	: Sekolah Dasar
Mata Pelajaran	: Matematika
Fase/Kelas	: B/ 4
Semester	: I (Satu)
Bab/Tema	: 5 / Bangun Datar
Elemen	: Geometri
Alokasi Waktu	: 2 x 35 Menit (1 Pertemuan)

PETUNJUK PENGGERJAAN

1. Berdoalah sebelum memulai mengerjakan LKPD
2. Baca dan Ikuti langkah Kegiatan pada LKPD
3. Berdiskusilah dengan teman kelompokmu
4. Membaca Bahan Ajar yang telah diberikan
5. Tanyakan pada guru jika ada hal yang belum dipahami

Mengenal Bangun Datar

Bacalah terlebih dahulu bahan ajar yang telah disajikan sebelumnya , atau dapat mengakses pada link berikut :

<https://online.fliphtml5.com/pjzfj/dzsa/>

perhatikanlah pada bagian pertama tentang contoh bangun datar di kehidupan sehari hari. Tulislah analisis mu sesuai dengan kolom yang ada dibawah ini!!

NO	NAMA BENDA	BENTUK BANGUN DATAR
1		
2		
3		
4		
5		

Mengklasifikasi Bangun Datar

Kelompokkan benda-benda tersebut berdasarkan jenis bangun datarnya!

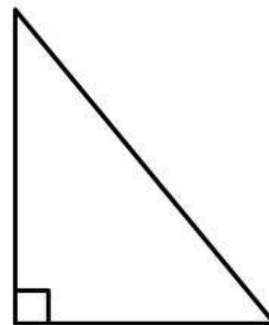

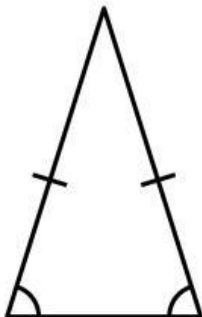

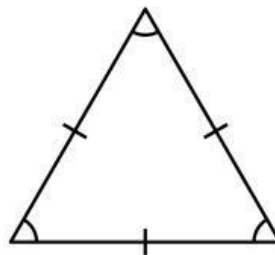

Segiempat:

Segitiga:

Lingkaran:

Segi _____ banyak _____ lainnya:

Perhatikan gambar bangun datar berikut!



Mengklasifikasi Bangun Datar

Bangun Datar	Jumlah Sisi	Jumlah Sudut	Ciri Ciri Khusus
Persegi			
Persegi Panjang			
Segitiga Sama Sisi			
Segitiga Sama Kaki			
Segitiga Siku Siku			
Jajar Genjang			
Belah Ketupat			

Membedakan bangun datar

Jelaskan Perbedaan antara:

Persegi Panjang dan Persegi

Segitiga sama sisi dan segitiga sama kaki

Belah ketupat dan jajar genjang

Membandingkan Bangun Datar

Aspek yang dibandingkan	Persegi	Belah Ketupat
Panjang Sisi		
Besar Sudut		
jumlah Sisi		

Kesimpulan:

Aspek yang dibandingkan	Persegi Panjang	Jajar Genjang
Panjang Sisi		
Besar Sudut		
jumlah Sisi		

Kesimpulan:



Lembar Kerja Peserta Didik

Bangun Datar

TERIMA KASIH

Selamat Menggerjakan!!!1