

# LKPD

## Matematika

### Diagram Turus



Nama Anggota  
Kelompok:

1.....

2.....

3.....

4.....

5.....





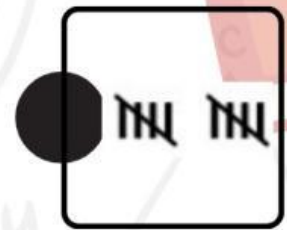


# LEMBAR KERJA PESERTA DIDIK (LKPD)



## AKTIVITAS 1

Menjodohkan lambang diagram turus

Petunjuk Mengerjakan:



-Semangat Mengerjakan-

# LEMBAR KERJA PESERTA DIDIK (LKPD)



## AKTIVITAS 2

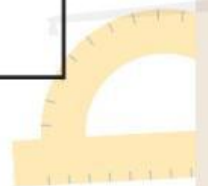
- Peserta didik dapat mengidentifikasi informasi penting dalam diagram turus dengan tepat

### Petunjuk Mengerjakan:

- Perhatikan diagram turus di bawah ini!
- Jawablah pertanyaan yang tersedia berdasarkan data dalam diagram turus.

Makanan Tradisional	Turus	Jumlah
Pecel		10
Rendang		6
Pempek		9
Rawon		2
serabi		4

-Semangat Mengerjakan-



**Jawablah pertanyaan berikut dengan tepat!**

**Pertanyaan:**

1. Makanan tradisional apa yang paling banyak disukai?

Jawab:.....  
.....

2. Makanan tradisional apa yang paling sedikit disukai?

Jawab:.....  
.....

3. Berapa jumlah siswa yang memilih Makanan tradisional rawon?

Jawab:.....  
.....

4. Makanan tradisional yang jumlah 10 adalah?

Jawab:.....  
.....

5. Apakah ada makanan tradisional yang jumlah pemilihnya sama?

Jawab:.....  
.....

**-Semangat Mengerjakan-**



## AKTIVITAS 3

- Peserta didik dapat mengumpulkan dan mencatat data sederhana melalui media “dadu ceria” dengan tepat.
- Peserta didik dapat menyusun dan menyajikan data ke dalam bentuk diagram turus secara tepat.

### Masalah yang Akan Kita Pecahkan

“Anak-anak, kita ingin tahu permainan tradisional apa yang paling sering muncul saat kita melempar Dadu Ceria. Tapi, bagaimana cara mengetahuinya dengan pasti tanpa menebak-nebak?”

### Petunjuk Mengerjakan:

- Mainkan “Dadu Ceria” dengan mengklik link berikut <https://id.piliapp.com/random/dice/?num=1>
- Dengan ketentuan: 1 = Egrang, 2 = kelereng, 3 = gobak sodor, 4 = engklek, 5 = congklak, 6= gasing,
- Lempar dadu sebanyak 15 kali secara bergantian dengan teman kelompok.
- Setiap kali dadu jatuh, catat hasilnya dalam diagram turus yang kalian buat ( | ).

## Menyusun/Menyajikan Diagram Turus

### Tabel Diagram Turus

Permainan Tradisional	Turus	Jumlah



# Aktivitas 4

## Membandingkan data dalam diagram turus

### Petunjuk Mengerjakan:

- Perhatikan kembali diagram turus yang sudah kelompokmu buat.
- Amati setiap permainan dan bandingkan jumlahnya.
- Jawablah pertanyaan di bawah ini berdasarkan diagram kelompokmu.

1. Permainan \_\_\_\_\_ dipilih lebih banyak daripada permainan \_\_\_\_\_.
2. Permainan \_\_\_\_\_ dipilih lebih sedikit dibandingkan permainan \_\_\_\_\_.
3. Permainan \_\_\_\_\_ dan \_\_\_\_\_ memiliki jumlah yang sama, yaitu \_\_\_\_\_ anak.
4. Permainan yang paling banyak dipilih oleh teman-teman adalah \_\_\_\_\_, dengan total \_\_\_\_\_ anak.
5. Jika dibandingkan, permainan \_\_\_\_\_ lebih disukai daripada permainan \_\_\_\_\_.