

LKPD

ILMU PENGETAHUAN ALAM


TEMA : BAGIAN-BAGIAN TUMBUHAN DAN FUNGSINYA



Nama :


Kelas :

MATERI




BAGIAN 1

Amatilah gambar tanaman dibawah ini,
kemudian tuliskan bagian bagian apa saja
yang ada di gambar tumbuhan tersebut!



BAGIAN 2

Tuliskan fungsi bagian-bagian tumbuhan yang sudah kamu tulis sebelumnya pada bagian 1, pada kolom yang tersedia.

<div>1</div> <div></div>		<div>2</div> <div></div>
<div>3</div> <div></div>	<div>4</div> <div></div>	<div>5</div> <div></div>

PILIHAN BERGANDA

1. Akar berguna bagi tumbuhan untuk
 - a. membuat makanan
 - b. menyerap air, mineral, dan zat-zat makanan dari dalam tanah
 - c. mengangkut zat-zat makanan
 - d. alat perkembangbiakan
2. Akar pada pohon bakau termasuk akar
 - a. gantung
 - b. udara
 - c. tunjang
 - d. pelekat
3. Bagian bunga yang indah dan berfungsi sebagai penarik serangga adalah
 - a. mahkota
 - b. tangkai bunga
 - c. benang sari
 - d. kelopak bunga
4. Tumbuhan yang menyimpan cadangan makanannya pada buah adalah
 - a. alpukat
 - b. wortel
 - c. tebu
 - d. kaktus
5. Bagian untuk bernapas pada batang disebut
 - a. pembuluh tapis
 - b. pembuluh kayu
 - c. kambium
 - d. lentisel