

## Lembar Kerja Peserta Didik



# BANGUN RUANG



1

### teksfield

Jawablah pertanyaan berikut dengan benar!

**Bangun ruang yang memiliki dua rusuk lengkung adalah bangun ruang...**

2

### single choice

Pilihlah jawaban yang benar!

**Yang bukan termasuk bangun ruang sisi lengkung adalah...**

**3**

## Checkboxes

Pilihlah jawaban yang benar!

**Manakah yang termasuk ciri - ciri dari bangun ruang kerucut?**

☐

memiliki dua sisi berbentuk lingkaran dan melengkung

☐

memiliki 4 diagonal ruang

☐

memiliki satu rusuk yang memiliki alas

☐

memiliki satu titik sudut

**4**

## Select

Pilihlah jawaban yang benar!

**memiliki 6 sisi yang berbentuk segi empat dengan ukuran yang sama, dan memiliki 12 rusuk serta 8 titik sudut.berikut ialah ciri-ciri dari bangun ruang...**

☐

Balok

☐

Kubus

☐

Limas

# 5 Wordsearch

Temukan kata yang termasuk dalam nama bangun ruang!

A	K	T	A	B	U	N	G	K	R	E	A	S
C	E	R	R	O	S	G	K	O	N	G	S	K
P	R	I	S	M	A	S	N	A	L	T	S	B
U	U	S	S	H	A	L	U	S	K	W	L	A
U	C	S	U	S	K	E	S	I	O	L	U	L
P	U	I	P	S	U	I	L	S	R	A	U	O
S	T	L	U	M	B	T	A	L	S	M	T	K
Y	W	C	B	E	U	N	W	Z	I	B	A	K
L	I	M	A	S	S	E	G	I	T	I	G	A
K	S	L	E	N	S	A	M	A	S	A	G	D
S	E	L	K	W	E	E	C	U	T	G	F	G
J	U	U	J	M	Y	Y	D	B	O	L	A	J
K	S	L	I	M	A	S	M	S	T	A	N	M

## 6 Speak

Termasuk bangun ruang sisi apakah gambar-gambar berikut



Klik untuk  
merekam suara

## 7 Listening

Dengarkan suara berikut, kemudia tuliskan jawabannya


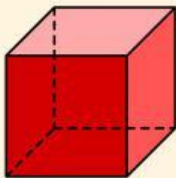
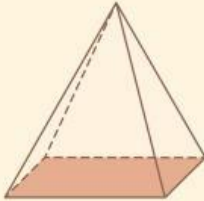


Klik untuk  
mendengarkan suara

8

# Drag and Drop

Urutkanlah rumus volume dengan cara seret dan lepas sesuai dengan gambar



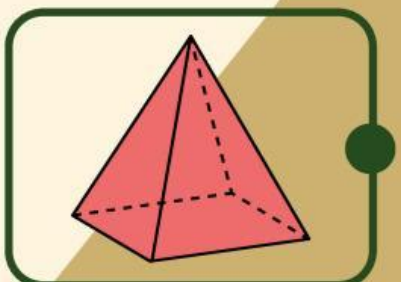

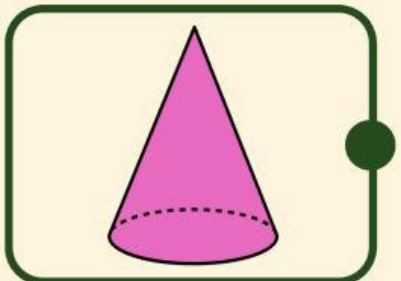
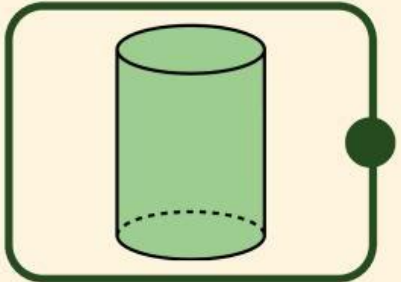
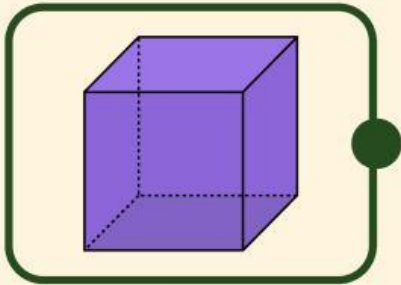
$$V = P \times L \times t$$

$$V = S \times S \times S$$

$$V = \frac{1}{3} \times \text{Luas Alas} \times \text{Tinggi}$$

# 9 Join

Hubungkan gambar dengan nama yang sesuai!



TABUNG

BOLA

KUBUS

LIMAS

KERUCUT