
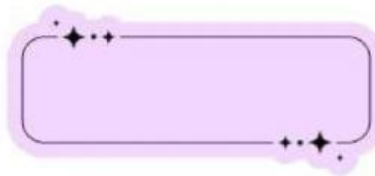


# LOS ESTADOS DE LA MATERIA Y SUS CAMBIOS


1. Organiza en orden los cambios de estado según el aumento de temperatura.



Agua (líquido)



Hielo (sólido)



Vapor (gas)

2. Selecciona: "Cuando el agua se convierte en vapor, ¿qué tipo de cambio ocurre?"

a) Fusión

b) Evaporación

c) Solidificación

3. Relacionar columnas con sonidos e imágenes

Fusión

Paso de líquido a sólido

Evaporación

Paso de sólido a líquido

Solidificación

Paso de líquido a gas

4. Completar los espacios en blanco (respuesta corta)

El \_\_\_\_\_ es el paso del agua líquida a gas cuando se la calienta.