

LKPD

BILANGAN BULAT

Nama :
Kelas :
Tanggal :
Materi : Bilangan Bulat
Waktu : 2 x 40 menit

Bagian A

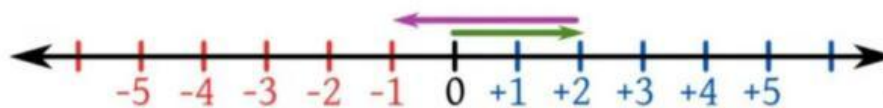
1. Buatlah garis bilangan dari -10 sampai 10.
2. Lalu tandai posisi bilangan -5, 0, dan 7
3. Apakah bilangan -5 lebih kecil atau lebih besar dari 0? Jelaskan alasanmu!

Jawaban

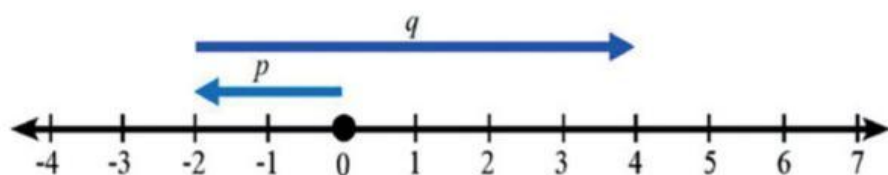
Bagian B

1. Hitunglah hasil dari operasi berikut:
 - $6 + (-3) =$
 - $-4 + (-5) =$
 - $8 - (-2) =$
 - $-10 - 3 =$
 - $(-4) \times 6 =$
 - $5 \times (-3) =$
 - $12 \div 4 =$
 - $24 \div (-6) =$
2. Jelaskan bagaimana kamu mendapatkan hasil dari salah satu operasi di atas.

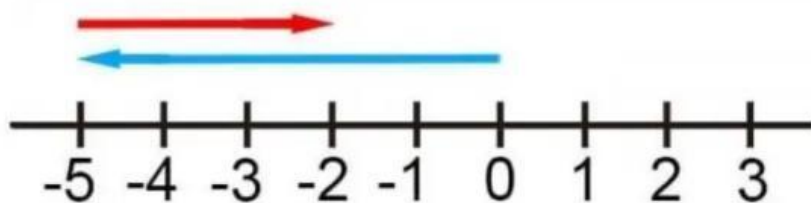
Jodohkanlah soal berikut ini!



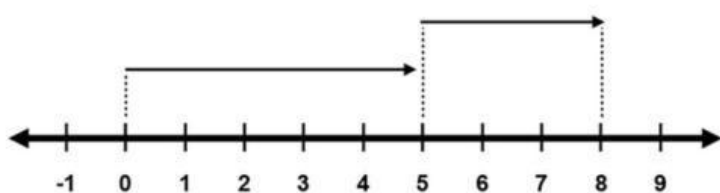
4



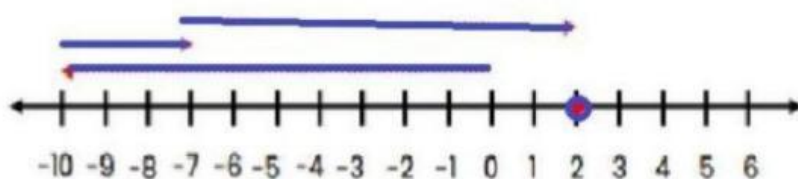
-2



2



-1



8