


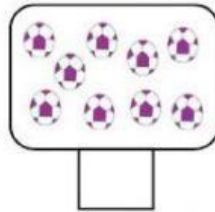
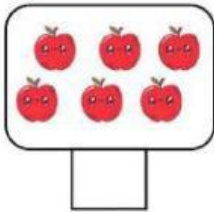
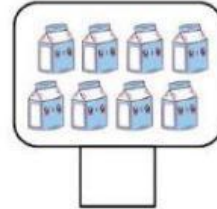

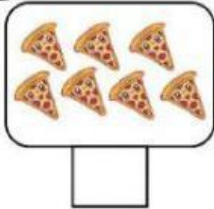


Họ tên: \_\_\_\_\_

Ngày 21 tháng 1 năm 2022


## CÙNG EM HỌC TOÁN

1 Đếm hình và điền số vào ô trống:




2 Tích vào ô có số con vật nhiều nhất:


3 So sánh và kéo dấu đúng thả vào ô trống:



4 Điền số:



5 Nối để tìm bóng của những chú mèo:



6 Tìm quy luật (kéo hình và thả vào đúng vị trí):



	___
	___
	___