

# LKPD

## Matematika

Tema: Pecahan

Nama  
Kelompok

Nama  
Anggota

- .....
- .....
- .....
- .....
- .....



## Tujuan Pembelajaran

- Mengenal konsep pecahan sederhana.
- Mengidentifikasi pecahan sederhana  $\frac{1}{2}$ ,  $\frac{1}{3}$ , dan  $\frac{1}{4}$ .



**AYO BERPIKIR**



**Waktu: 25 Menit**

## Petunjuk Kegiatan

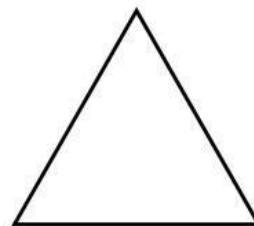
- Siapkanlah pensil warna!
- Gambarlah kotak dan lingkaran seperti gambar di bawah ini pada buku kalian!
- Warnailah kotak tersebut menjadi pecahan sesuai yang diperintahkan!

## Aktivitas Siswa


Salinlah gambar di bawah ini ke buku kalian dan warnailah menjadi pecahan  $\frac{1}{2}$ ,  $\frac{1}{3}$ , dan  $\frac{1}{4}$ .




**1**



**$\frac{1}{2}$**



**$\frac{1}{3}$**



**$\frac{1}{4}$**



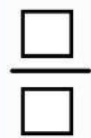
## AYO DISKUSI!



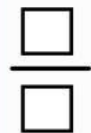
### Petunjuk Kegiatan

- Perhatikan setiap gambar pecahan pada kolom di bawah ini!
- Telpelkan gambar pecahan sesuai dengan pertanyaannya!

Ibu membeli pizza, kemudian ibu membagi setengah pizza dengan tetangga. Bentuk pecahan dari pizza yang dibagi ibu adalah ...



Ayah membeli pizza. Pizza tersebut dimakan oleh nayla, ayah, dan ibu. Bentuk pecahan dari pizza yang mereka makan adalah ...



Nayla membeli pizza. Pizza tersebut ia bawa untuk berkumpul dengan ketiga temannya. Pizza tersebut ia potong agar ia dan sebua temannya dapat memakan pizza tersebut. Bentuk pecahan dari pizza yang dibagi nayla adalah ...

