







Soal Evaluasi

Lengkapilah kalimat sesuai dengan isi diagram!

Nama: _____

Kelas: _____

Tanggal: _____

Pastel	
Lemper	
Lapis	
Onde-Onde	
Pukis	
Putu Ayu	

1. Berdasarkan pictogram, berapa jumlah siswa yang memilih makanan favorit berupa Lemper?

2. Dalam pictogram tersebut, jenis kue apa yang paling banyak disukai oleh siswa?

3. Berdasarkan data pada pictogram, berapa selisih jumlah siswa yang memilih putu ayu dan pukis?

4. Dari data hobi siswa

- menari jaipong : 8 orang
- bermain angklung : 6 orang
- bela diri pencak silat : 7 orang




gambarlah pictogram menggunakan satu gambar buku untuk mewakili 2 siswa!

5. Disajikan data jenis minuman favorit

- cendol dawet : 9
- bandrek : 6
- es sekoteng : 3

Buatlah diagram batang berdasarkan data tersebut!

4

HOBİ	JUMLAH SISWA
	
	
	

5

