

# SOAL DAN KUIS

Nama:

Kelas :



dan Pengurangan Bersusun

**LIVEWORKSHEETS**



Penjumlahan

Pengurangan

Penjumlahan

Pengurangan

Pengurangan

## Kerjakan Soal<sup>x</sup> Berikut!

Kuis 1

Kuis 2

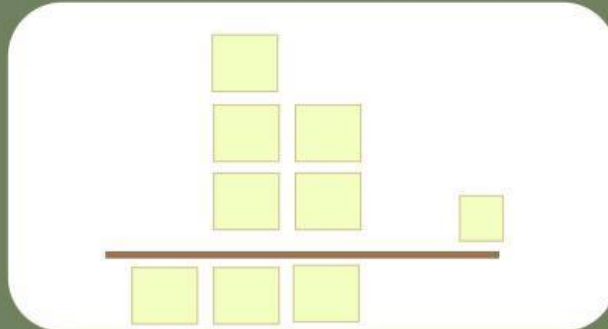
Kuis 3

Kuis 4

Kuis 5




Novila memiliki 75 kelereng. Ia membeli lagi 48 kelereng. Berapa jumlah kelereng Siti sekarang? Tunjukkan caramu menghitung dengan cara bersusun!



LIVEWORKSHEETS

**Kerjakan Soal Berikut!**

Ayah memiliki 32 buah mangga. Sebanyak 19 buah mangga diberikan ke tetangga. Berapa buah mangga yang masih dimiliki oleh ayah? Tuliskan jawabanmu dengan cara bersusun!





Penjumlahan

Pengurangan

Penjumlahan

Pengurangan

Pengurangan

Kuis 1

Kuis 2

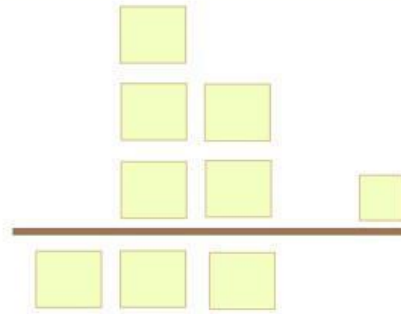
Kuis 3

Kuis 4

Kuis 5

**Kerjakan Soal Berikut!**<sup>x</sup>

Sebuah toko ada **75** pensil. Kemudian ditambahkan **26** pensil lagi. Hitunglah jumlah pensil di toko itu sekarang dengan cara bersusun!

**LIVEWORKSHEETS**



Penjumlahan

Pengurangan

Penjumlahan

Pengurangan

Pengurangan

Kuis 1

Kuis 2

Kuis 3

Kuis 4

Kuis 5

**Kerjakan Soal Berikut!**<sup>x</sup>

Sekolah membeli **128** buku tulis. Setelah dibagikan kepada siswa, tinggal **75** buku. Berapa buku yang sudah dibagikan? Jelaskan cara menghitungnya dengan cara bersusun!

**LIVEWORKSHEETS**



**Kerjakan Soal Berikut!**

Rizka memiliki 221 kertas origami. Ia memberikan 150 lembar kepada temannya. Berapa kertas origami yang masih dimiliki Rizka? Kerjakan dengan cara bersusun!





Kelas 2 SD

Matematika

Penjumlahan  
Bersusun

Pengurang  
an Bersusun



Kuis 1

Kuis 2

Kuis 3

Kuis 4

Kuis 5



**SELESAI!**

X

**Terima kasih  
Anak-anak Hebat**

Terima kasih telah  
mengerjakan Kuis  
Ini

**Semoga  
Mendapatkan Hasil  
yang Baik**

Semoga mendapat nilai  
terbaik sesuai dengan  
yang diharapkan

**Sampai  
Berjumpa**

Sampai bertemu  
dipertemuan  
selanjutnya