



YAYASAN HANG TUAH PUSAT
PENILAIAN SUMATIF KELAS AKHIR
SEKOLAH DASAR HANG TUAH 8

Jl. Perintis Kemerdekaan Komplek TNI-AL Kelapa Gading Jakarta Utara 14240
Telp. 02145850054, Email : sdht8jkt@gmail.com

Nama :
Hari / tanggal :
Mata Pelajaran : **Kebaharian**
Waktu : **90 Menit**

Nilai	Paraf

I. Berilah tanda sialang (X) pada huruf a , b , c , dan d pada jawaban yang paling tepat !

1. Perhatikan ilustrasi berikut ini !

Secara umum kedatangan bangsa Eropa datang ke Asia khususnya ke Indonesia adalah untuk mencari rempah – rempah. Namun akhirnya meluas menjadi monopoli perdagangan dan kolonialisme. Selain itu didorong oleh adanya penemuan dan kemajuan Ilmu pengetahuan dan teknologi .

Berdasarkan ilustrasi tersebut, tujuan awal kedatangan bangsa Eropa ke Indonesia adalah

- A. pariwisata.
- B. menjajah.
- C. penelitian.
- D. mencari rempah – rempah.

2. Perhatikan biota laut berikut ini!

- I . Hewan laut
- II . Padang lamun
- III . Minyak bumi
- IV . Rumput laut

Berdasarkan data biota laut tersebut yang termasuk sumber daya alam biotis adalah

- A. I, II, III.
- B. I, II, IV.
- C. I, III, IV.
- D. II, III, IV.

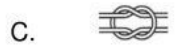
3. Kegiatan perdagangan dan pelayaran pada abad V sampai abad ke VIII di wilayah perairan Indonesia dapat berkembang karena didukung oleh beberapa faktor. Faktor pendukung perkembangan pelayaran di Indonesia pada abad V sampai XIII adalah

- A. letak Indonesia yang strategis.
- B. jumlah penduduk yang sedikit.
- C. kekurangan sumber daya alam.
- D. memiliki kehidupan sosial yang homogen.

4. Menurut proses terbentuknya , ekosistem dapat dibedakan menjadi dua yaitu ekosistem alam dan ekosistem buatan. Berikut yang termasuk ekosistem alam adalah

- A. pantai , laut , muara.
- B. laut , hutan bakau , tambak.
- C. aquarium laut, tambak , laut.
- D. sungai , hutan bakau , tambak.

5. Berikut merupakan simpul ujung tali adalah



6. Kegiatan penjelajahan samudera bangsa Eropa mempunyai tujuan yaitu

- A. membangun jalan raya.
- B. membantu rakyat yang disinggahi.
- C. memberikan bantuan bagi yang nggak mampu.
- D. mencari daerah yang sumber daya yang melimpah.

7. Manfaat terumbu karang bagi manusia adalah

- A. sumber makanan.
- B. pembesaran anak ikan.
- C. sebagai bahan obat – obatan.
- D. bahan bioaktif dibidang medis.

8. Kondisi terumbu karang di Indonesia saat ini memprihatinkan. Hal ini disebabkan oleh faktor alam dan faktor manusia. Penyebab rusaknya terumbu karang karena faktor alam adalah

- A. bahan peledak.
- B. pukuk harimau.
- C. Tsunami.
- D. Racun.

9. Wisata bahari di Indonesia banyak dan beragam. Tempat wisata pantai yang terletak di Bali adalah

- A. Pantai pasir putih.
- B. Pelabuhan Ratu.
- C. Sanur.
- D. Anyer.

10. Kementerian Kebudayaan dan Pariwisata baru memetakan 13 kawasan di seluruh wilayah Indonesia sebagai destinasi bahari unggulan. Pulau Komodo adalah salah satu destinasi bahari terletak di provinsi

- A. Nusa Tenggara Timur.
- B. Nusa Tenggara Barat.
- C. Kalimantan Timur.
- D. Bali.

11. Perhatikan gambar berikut!

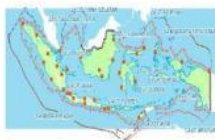


Gambar tersebut adalah seorang pelayar bangsa Inggris yang pernah singgah di Ternate yang bernama

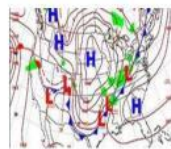
- A. James cook.
 - B. Pilgrim Father.
 - C. William Dampier.
 - D. Sir Francis Drake.
12. Pemerintah Belanda berkuasa di Indonesia selama 350 tahun merubah semua sistem yang sudah ada salah satunya politik adu domba dan membuat perjanjian bagi hasil pertanian rakyat Indonesia. Politik adu domba yang diterapkan bangsa Belanda dikenal dengan nama
- A. politik praktis.
 - B. politik balas budi.
 - C. politik tanam paksa.
 - D. politik devide et impera.
13. Perjuangan bangsa Indonesia untuk memperluas wilayah perairan Indonesia diawali dengan pernyataan Deklarasi Djoeanda yang berhasil memperluas wilayah Indonesia dari 3 mil menjadi empat kali lebih luas dari pada yang pertama. Luas wilayah laut Indonesia sesuai dengan Deklarasi Djoeanda adalah
- A. 13 mil.
 - B. 12 mil.
 - C. 30 mil.
 - D. 200 mil.
14. Laut merupakan area pertambangan yang sangat potensial bagi bangsa Indonesia . Salah satu hasil tambang terpenting yang dihasilkan dari laut adalah minyak dan gas bumi untuk memenuhi kebutuhan dalam negeri . Hal tersebut merupakan manfaat laut dalam bidang
- A. sarana transportasi
 - B. sumber pangan
 - C. sumber energi
 - D. rekreasi
15. Yang termasuk peta laut (Nautical Chart) adalah



A



B



C



D

16. Persyaratan dalam membuat peta adalah equidistan, equivalen dan conform. Peta harus Conform artinya
- A. skala luas yang tertulis dalam peta harus menunjukkan perbandingan yang benar.
 - B. peta yang tergambar harus sebangun dengan keadaan yang sesungguhnya.
 - C. walaupun ukurannya kecil jarak dan posisi harus sesuai dengan kenyataan.
 - D. peta harus memiliki bentuk yang bagus.

17. Perhatikan gambar berikut!



1



2



3



4

Gambar kapal tersebut yang merupakan kapal modern adalah....

- A . 2.
 - B . 1.
 - C . 4.
 - D . 3.
18. Dalam melakukan pengamanan laut pemerintah Indonesia telah memiliki Angkatan Laut yang dilengkapi dengan berbagai jenis kapal yang canggih dan diharapkan dapat mengamankan wilayah laut Indonesia yang sangat luas. Ada beberapa jenis kapal FRIGAT dan KORVET. Berikut ini yang termasuk kapal FRIGAT adalah
- A. KRI Ahmad Yani, KRI Slamet Riyadi, dan KRI Yos Sudarso.
 - B. KRI Slamet Riyadi , KRI Yos Sudarso, dan kapal pinisi.
 - C. KRI Hayati , kapal Cadik Borobudur, dan kapal pinisi.
 - D. kapal Majapahit, KRI Ahmad Yani, dan kapal Papua.
19. Alat penerang yang mengeluarkan sinar dengan sifat tertentu , yang dilabuhkan di dasar laut dan ditempatkan di perairan pantai atau didalam pelabuhan disebut
- A. Mercusuar.
 - B. rambu suar.
 - C. pelampung suar.
 - D. pelampung isyarat.

20. Perhatikan gambar berikut!



Nama rambu laut pada gambar tersebut adalah

- A. pelampung isyarat.
- B. bendera isyarat.
- C. rambu suar.
- D. mercusuar.

21. Tali temali sangat bermanfaat bagi manusia. Tali yang terbuat dari bahan serat – serat daun nanas hutan adalah
- A. tali hannep.
 - B. tali manila.
 - C. tali kokos.
 - D. tali sisal.

22. Perhatikan gambar berikut!



Gambar tersebut adalah tokoh penjelajah samudera dari negara

- A. Belanda.
 - B. Portugis.
 - C. Spanyol.
 - D. Inggris.
23. Pada tahun 1642 seorang pelaut dari Belanda ikut melakukan penjelajahan ke timur dan telah menemukan sebuah pulau Tasmania. Pelaut Belanda tersebut adalah
- A. Barents.
 - B. James cook.
 - C. Abel Tasman.
 - D. Cornelis De Houtman.
24. Perkembangan laut Indonesia pada masa pemerintahan Hindia Belanda di Indonesia banyak merugikan rakyat Indonesia , yaitu salah satunya dengan mengatur luas wilayah Indonesia 3 mil dari garis pantai yang tertuang dalam aturan
- A. VOC.
 - B. TSMKO.
 - C. Deklarasi Djoeanda .
 - D. Konvensi hukum laut Internasional.
25. Wilayah perairan Nusantara yang lebarnya tidak lebih dari 12 mil disebut dengan
- A. landas kontinen.
 - B. laut pedalaman.
 - C. laut Nusantara.
 - D. laut territorial.
26. Perhatikan gambar berikut!



Berdasarkan gambar tersebut tanaman yang tumbuh di daerah tropis dan tidak tumbuh di daerah bersuhu dingin. Tanaman tersebut adalah

- A. mangrove.
- B. rumput laut.
- C. padang lamun.
- D. tumbuhan karang.

27. Suatu wilayah yang memiliki letak strategis dan dikenal sebagai pintu gerbang Nusantara adalah
 A. Halmahera.
 B. Majapahit.
 C. Sriwijaya.
 D. Malaka.
28. Perkembangan ilmu astronomi dan penemuan kompas merupakan salah satu pendorong majunya pelayaran dalam bidang
 A. ilmu agama.
 B. ilmu kebudayaan.
 C. ilmu pengetahuan.
 D. ilmu pemerintahan.
29. Ilmu yang mempelajari hubungan timbal balik antara makhluk hidup dengan lingkungannya adalah
 A. Antropologi.
 B. Geologi.
 C. Biologi.
 D. Ekologi.
30. Tali yang digunakan untuk layar dan melempar benda dilakukan dalam kegiatan dan pekerjaan
 A. pertanian.
 B. pelayaran.
 C. kehutanan.
 D. peternakan.

II . Isilah titik – titik di bawah ini dengan jawaban yang benar !

31. Tujuan kedatangan bangsa Portugis dan bangsa Spanyol ke Asia meliputi 3G yaitu GOLD, GLORY, GOSPEL. Yang memiliki arti mencari kejayaan atau tanah jajahan adalah
32. Perhatikan gambar berikut!



Nama hewan pada gambar tersebut adalah ...

33. Kelompok organisme yang dapat membuat makanan sendiri dan memiliki ciri menghasilkan makanan melalui proses fotosintesis dinamakan....
34. Pada tahun 1868 di Birmingham Inggris ditemukan peluit pertama kali oleh
35. Tokoh pelaut dari Inggris yang menemukan benua Australia adalah
36. Dengan adanya TZMKO sangat merugikan bangsa dan rakyat Indonesia. Dilandasi dengan jiwa dan semangat kemerdekaan Republik Indonesia maka pada tanggal 13 Desember 1957 bangsa Indonesia mengeluarkan pernyataan yg dikenal dengan nama
37. Perhatikan gambar berikut!



Simbol tersebut pada peta menunjukkan....

38. Perhatikan gambar berikut!



Gambar tersebut adalah kapal

39. Tempat individu yang cocok untuk kelangsungan hidupnya disebut

40. Perlengkapan yang dibutuhkan manusia untuk membantu meringankan pekerjaan manusia yang digunakan untuk mengikat disebut

III . Jawablah pertanyaan berikut dengan benar!

41. Apakah yang dimaksud dengan ekosistem laut ?

42. Sebutkan 3 macam simpul yang digunakan nelayan dan anak buah kapal!

43. Sebutkan 3 manfaat rumput laut!

44. Tuliskan 3 pelaut Inggris yang melakukan kegiatan pelayaran mengarungi Samudera!

45. Tuliskan 3 kapal modern!