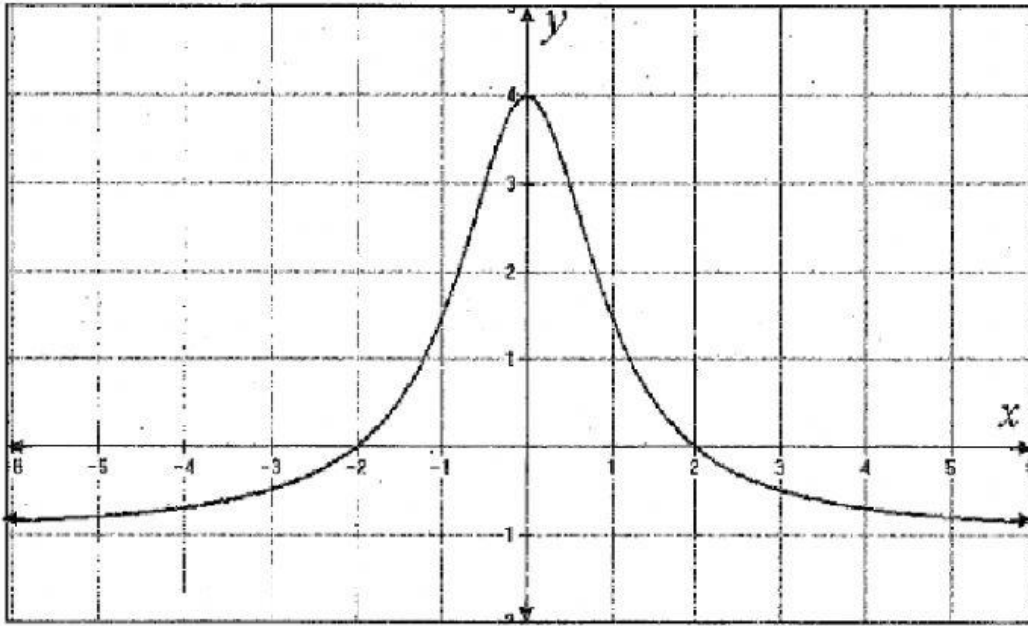


## رياض 363 – القيم القصوى ومتوسط معدل التغير

الكفاية: تحديد نوع القيم القصوى

اختر الاجابة الصحيحة في كل مما يأتي:



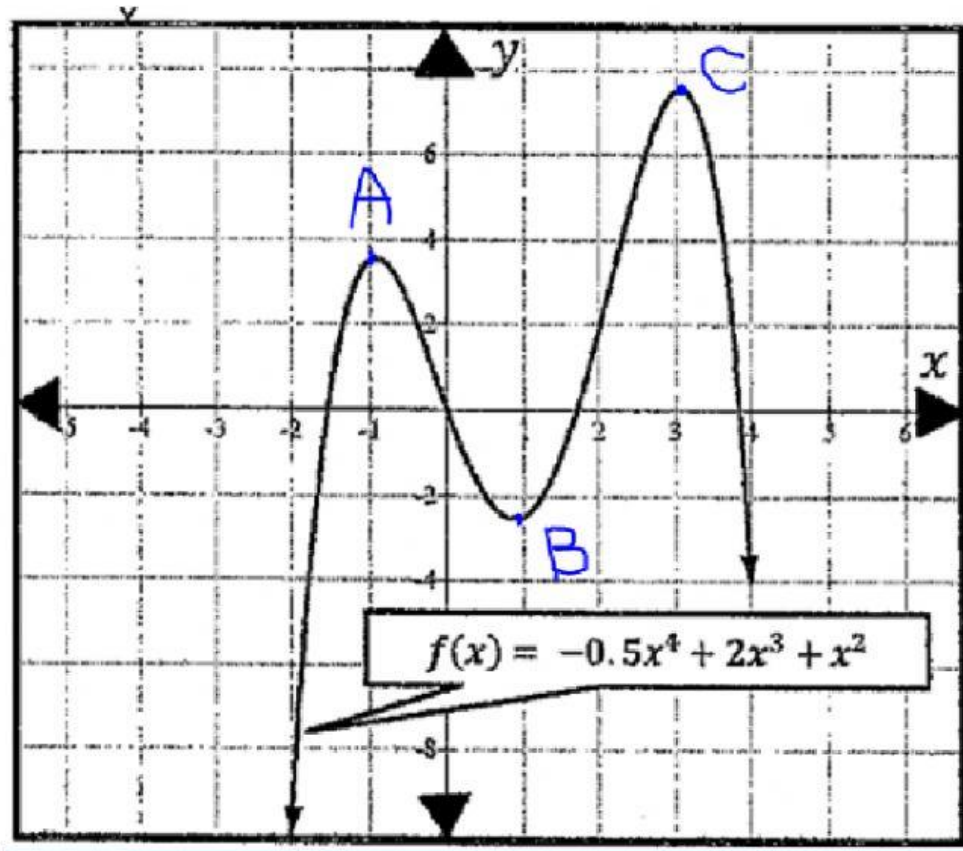
يكون للدالة \_\_\_\_\_ عند النقطة  $(0, 4)$ :

قيمة عظمى محلية

قيمة عظمى مطلقة

قيمة صغرى محلية

قيمة صغرى مطلقة



أولاً: يكون للدالة \_\_\_\_\_ عند النقطة A:

قيمة عظمى محلية

قيمة عظمى مطلقة

قيمة صغرى محلية

قيمة صغرى مطلقة



ثانيًا: يكون للدالة \_\_\_\_\_ عند النقطة B:

قيمة عظمى محلية

قيمة عظمى مطلقة

قيمة صغرى محلية

قيمة صغرى مطلقة

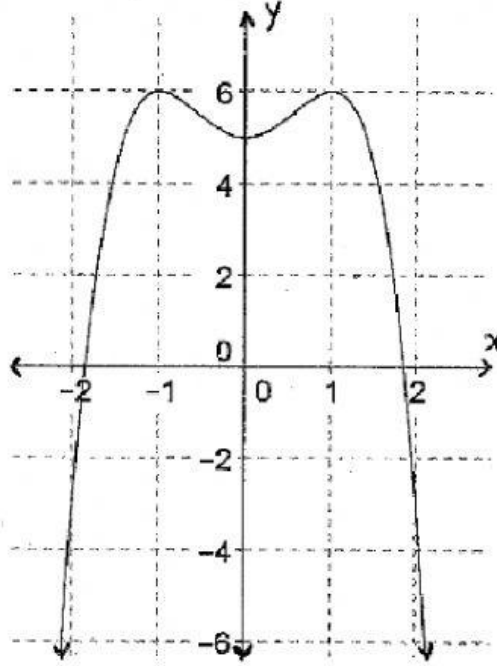
ثالثًا: يكون للدالة \_\_\_\_\_ عند النقطة C:

قيمة عظمى محلية

قيمة عظمى مطلقة

قيمة صغرى محلية

قيمة صغرى مطلقة



أولاً: يكون للدالة \_\_\_\_\_ عند النقطة  $(0, 5)$ :

قيمة عظمى محلية

قيمة عظمى مطلقة

قيمة صغرى محلية

قيمة صغرى مطلقة

ثانياً: يكون للدالة \_\_\_\_\_ عند النقطتان  $(-1, 6)$ ,  $(1, 6)$ :

قيمة عظمى محلية

قيمة عظمى مطلقة

قيمة صغرى محلية

قيمة صغرى مطلقة