

## SISTEMA REPRODUCTOR

Nombre: .....

Grado y Sección: 5° "A"

1. ¿Qué parte del sistema reproductor femenino es?

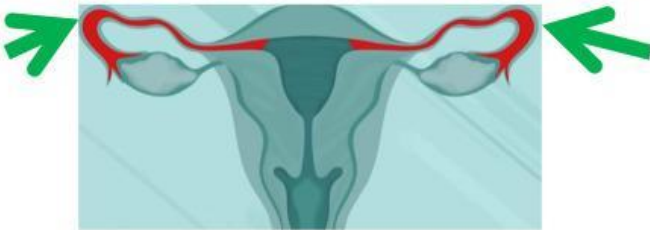


- a. Vulva      b. Vagina      c. Trompas de Falopio
- d. Útero      e. Ovarios

2.- ¿Qué función tienen?

- a. Producir el semen      b. Producir los óvulos

3.- ¿Qué parte del sistema reproductor femenino es?



- a. Vulva      b. Vagina      c. Trompas de Falopio
- d. Útero      e. Ovarios

4. ¿Qué función tienen?

- a. Transporta los óvulos      b. Transporta el semen.

5. ¿Qué parte del sistema reproductor femenino es?

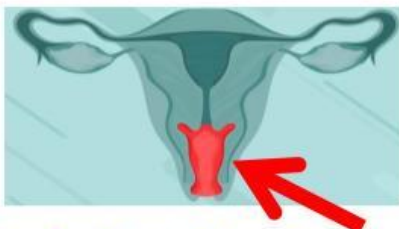


- a. Vulva      b. Vagina      c. Trompas de Falopio
- d. Útero      e. Ovarios

6. ¿Qué función tiene?

- a. Se forma el semen      b. Crece cuando se forma el feto (bebé)

7. ¿Qué parte del sistema reproductor femenino es?

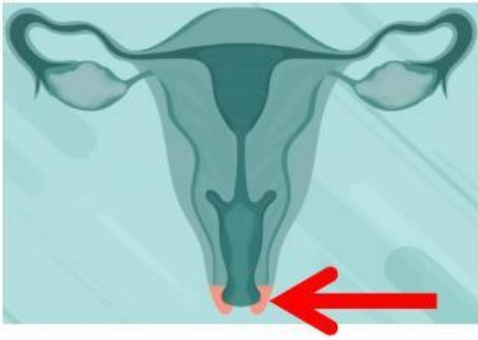


- a. Vulva      b. Vagina      c. Trompas de Falopio
- d. Útero      e. Ovarios

8. ¿Qué función tiene?

- a. Permite salir al bebé e ingresan los espermatozoides.
- b. Permite desarrollar a los espermatozoides.

9. ¿Qué parte del sistema reproductor femenino es?



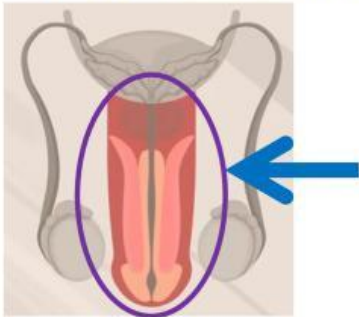
- a. Vulva      b. Vagina      c. Trompas de Falopio
- d. Útero      e. Ovarios

10. ¿Qué función tiene?

- a. Protege del exterior.      b. Protege del interior.

---

1. ¿Qué parte del sistema reproductor masculino es?

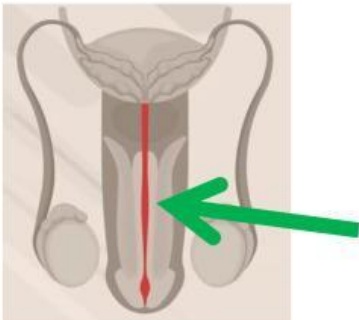


- a. Próstata      b. Pene      c. Uretra      d. Testículos
- e. Vesícula seminal      f. Conductos deferentes

2. ¿Qué función tiene?

- a. Por su orificio la orina y semen sale al exterior.      b. Por ahí ingresa el semen

3. ¿Qué parte del sistema reproductor masculino es?

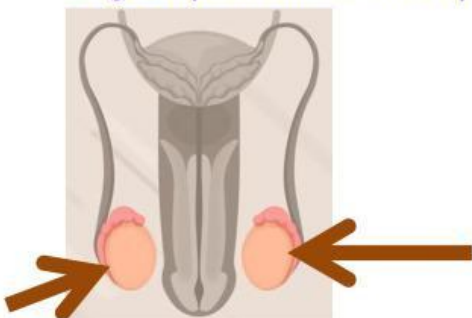


- a. Próstata      b. Pene      c. Uretra      d. Testículos
- e. Vesícula seminal      f. Conductos deferentes

4. ¿Qué función tiene?

- a. Permite la salida de la orina y semen      b. No permite la salida de la orina

5. ¿Qué parte del sistema reproductor masculino es?

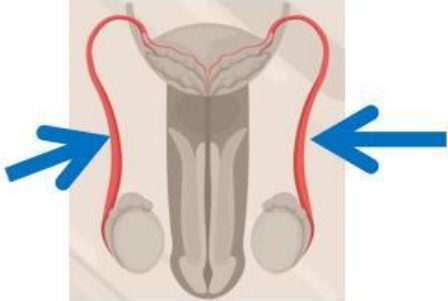


- a. Próstata      b. Pene      c. Uretra      d. Testículos
- e. Vesícula seminal      f. Conductos deferentes

6. ¿Qué función tienen?

- a. Fabrican y almacenan millones de espermatozoides.
- b. Fabrican y almacenan millones de óvulos.

7. ¿Qué parte del sistema reproductor masculino es?

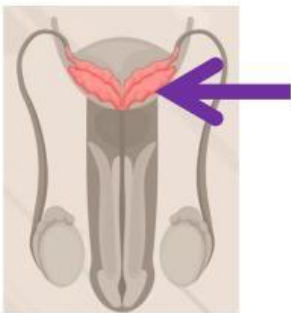


- a. Próstata      b. Pene      c. Uretra      d. Testículos
- e. Vesícula seminal      f. Conductos deferentes

8. ¿Qué función tienen?

- c. Conectan los testículos con la uretra.      b. Conectan los ovarios con el útero

9. ¿Qué parte del sistema reproductor masculino es?

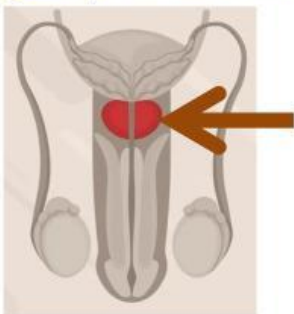


- a. Próstata      b. Pene      c. Uretra      d. Testículos
- e. Vesícula seminal      f. Conductos deferentes

10. ¿Qué función tiene?

- a. Produce la mayor parte del líquido seminal que nutre a los espermatozoides.
- b. Produce la mayor parte de óvulos.

11. ¿Qué parte del sistema reproductor masculino es?



- a. Próstata      b. Pene      c. Uretra      d. Testículos
- e. Vesícula seminal      f. Conductos deferentes

12. ¿Qué función tiene?

- a. Produce óvulos      b. Produce el resto del líquido seminal