






Piensa bien antes de responder.



Ahora puedes empezar.

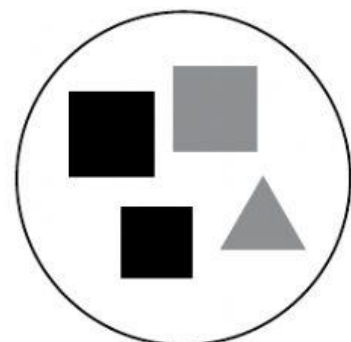

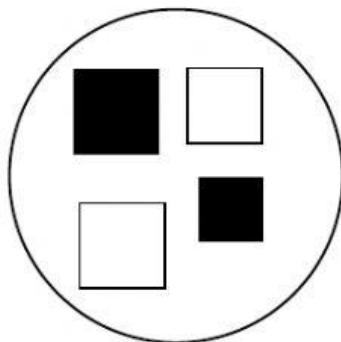
1.

Remarca el grupo donde TODOS los animales tienen CUATRO PATAS.



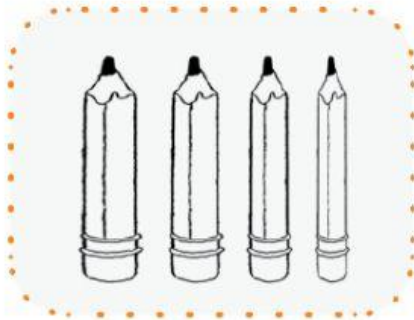
2.

Marca con X el grupo donde TODOS son cuadrados y ALGUNOS son plomos.



3.

¿En qué grupo se han ordenado los lápices de grande a pequeño? Marca con X tu respuesta.



4.

Escribe el número que falta:

18, 16, 14, 12, \_\_\_\_\_

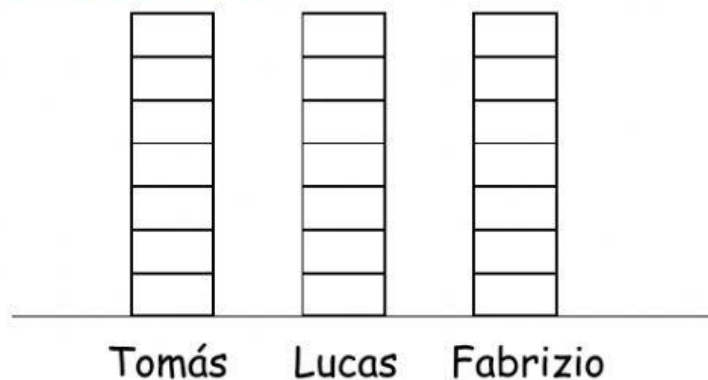
**5. Observa la cantidad de galletas que comieron tres niños:**

Tomás comió 5 galletas.

Lucas comió 4 galletas.

Fabrizio comió 6 galletas.

Ahora, pinta los recuadros de acuerdo a la cantidad de galletas que comió cada niño.



**6. Observa los polos:**



¿Cómo debemos colgar estos polos para que los números estén ordenados de MENOR a MAYOR?

Escribe tu respuesta:



7.

Marca con X los números que son menores que 15.



12	19	7	11	15
----	----	---	----	----

8.

Escribe en cada recuadro  un número mayor que 10  
y en cada círculo  un número menor que 10.

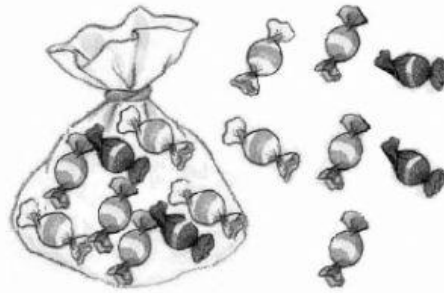


10





9. Observa la figura:



Ahora, observa lo que dicen estos niños:

Sara



Dentro de la bolsa hay **menos** caramelos que fuera de la bolsa.

Pedro



Dentro de la bolsa hay la **misma** cantidad de caramelos que fuera de la bolsa.

Ana



Dentro de la bolsa hay **más** caramelos que fuera de la bolsa.

¿Con quién estás de acuerdo? \_\_\_\_\_

¿Por qué? \_\_\_\_\_