


KELOMPOK 6

LEMBAR KERJA PESERTA DIDIK

# LKPD



Perbandingan Teori Evolusi  
Lamarck & Darwin

Nama : .....  
Kelas : .....  
Materi : .....

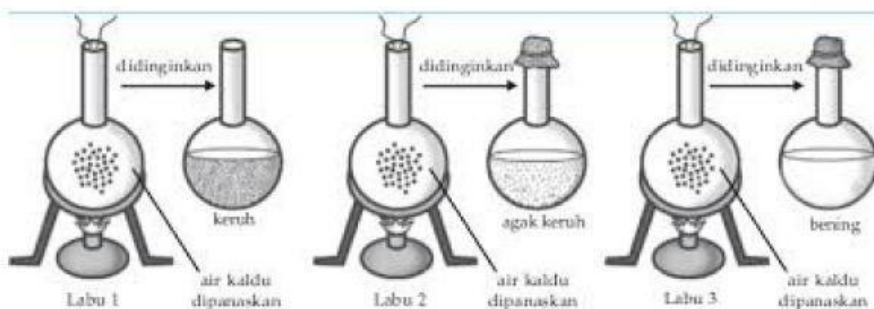



# Tujuan

Peserta didik Fase F dapat membandingkan teori evolusi menurut para ahli (misalnya Lamarck dan Darwin) melalui kegiatan membaca dan diskusi kelompok, dengan tepat dan logis dalam bentuk tabel perbandingan

## Kegiatan 1

Perhatikan gambar berikut, lengkapilah bagian kotak yang kosong dengan cara memindahkan jawaban yang ada pada pilihan kotak yang tersedia




## Kegiatan 2

Pasangkanlah pernyataan tentang pencetus teori evolusi dengan cara menarik garis pada pernyataan yang tepat!



# Kegiatan 3

## Kesimpulan



.....

.....

.....

.....

.....

.....

.....

.....

.....

.....

.....

