



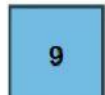
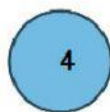

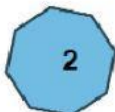


Nombre: \_\_\_\_\_ Grado \_\_\_\_\_ Fecha: \_\_\_\_\_

**1. Escribe la clase de polígono según el número de lados.**



**2. Escribe el número del polígono dentro de clase a la que pertenece.**

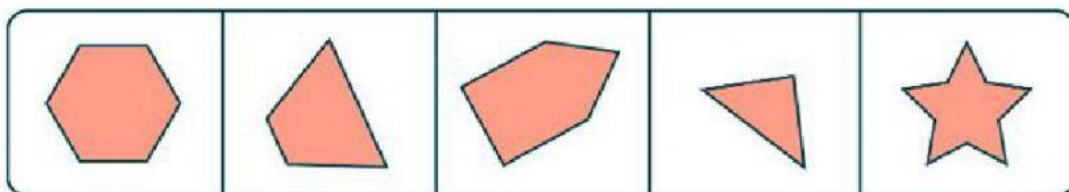
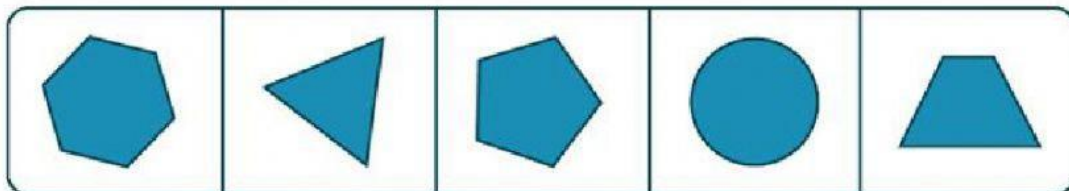


Polígonos Convexos:

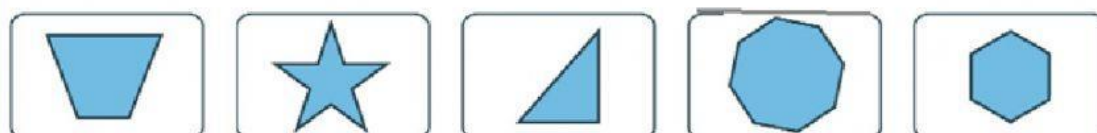
Polígonos Cóncavo:



3. Escribe **R** si el polígono es regular o **I** si es irregular.



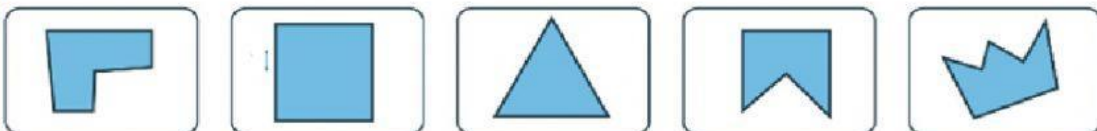
4. Clasifica en 1 según el número de lados en 2 según su forma y en 3 según la medida de lados y ángulos



1. \_\_\_\_\_ 1. \_\_\_\_\_ 1. \_\_\_\_\_ 1. \_\_\_\_\_ 1. \_\_\_\_\_

2. \_\_\_\_\_ 2. \_\_\_\_\_ 2. \_\_\_\_\_ 2. \_\_\_\_\_ 2. \_\_\_\_\_

3. \_\_\_\_\_ 3. \_\_\_\_\_ 3. \_\_\_\_\_ 3. \_\_\_\_\_ 3. \_\_\_\_\_



1. \_\_\_\_\_ 1. \_\_\_\_\_ 1. \_\_\_\_\_ 1. \_\_\_\_\_ 1. \_\_\_\_\_

2. \_\_\_\_\_ 2. \_\_\_\_\_ 2. \_\_\_\_\_ 2. \_\_\_\_\_ 2. \_\_\_\_\_

3. \_\_\_\_\_ 3. \_\_\_\_\_ 3. \_\_\_\_\_ 3. \_\_\_\_\_ 3. \_\_\_\_\_