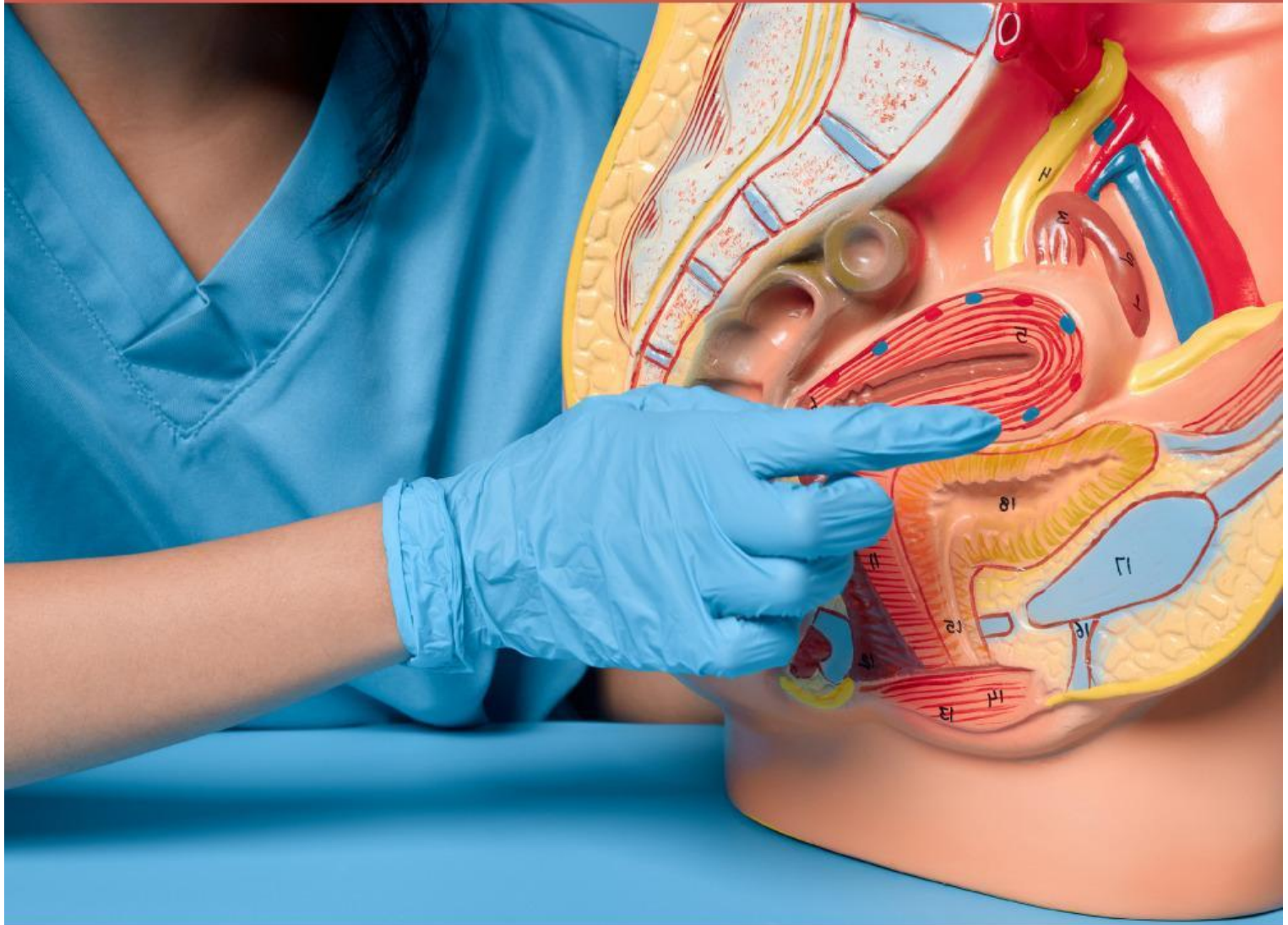


LKPD

Lembar Kerja Peserta Didik

SISTEM REPRODUKSI



Fase F/Kelas XI

NAMA :



TUJUAN PEMBELAJARAN

- Peserta didik mampu mengidentifikasi struktur dan fungsi penyusun organ sistem reproduksi pada pria dengan benar
- Peserta didik mampu mengidentifikasi struktur dan fungsi penyusun organ sistem reproduksi pada wanita dengan benar

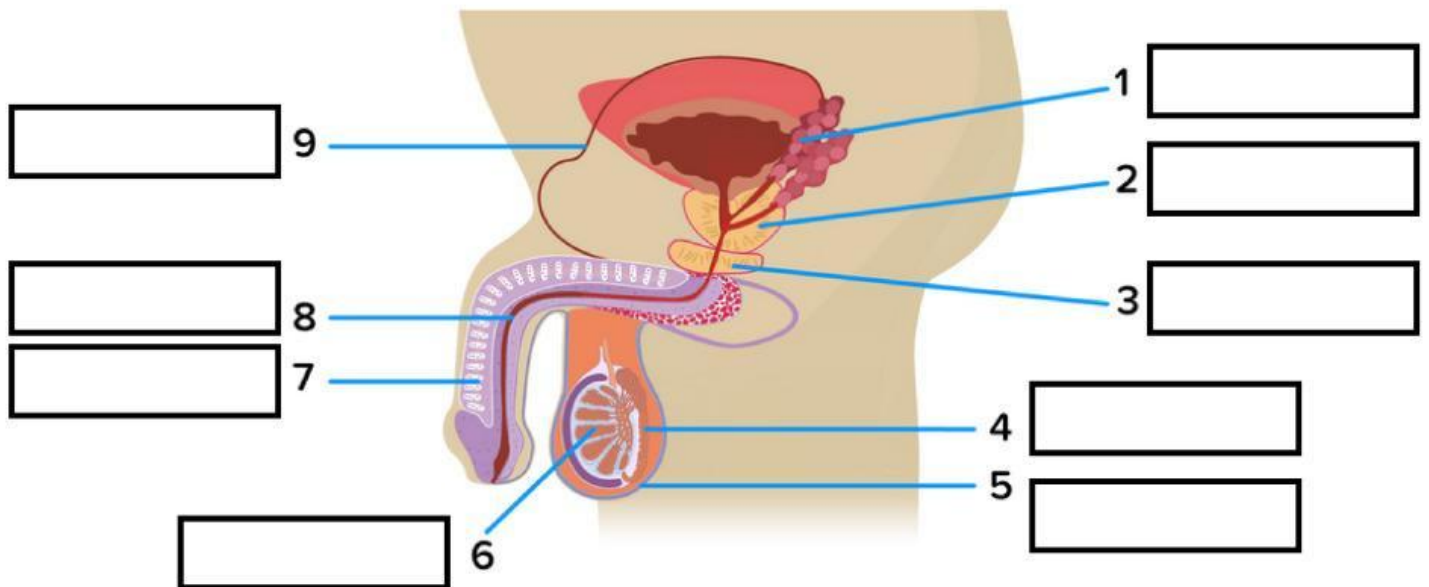


PETUNJUK Pengerjaan LKPD

- Cermati tujuan pembelajaran yang ada pada LPKD ini
- Baca dengan seksama petunjuk LKPD
- Pahami Langkah-langkah kegiatan pada LKPD ini
- Lakukan kegiatan secara berurutan
- Tanyakan kepada guru apabila ada hal yang belum dipahami



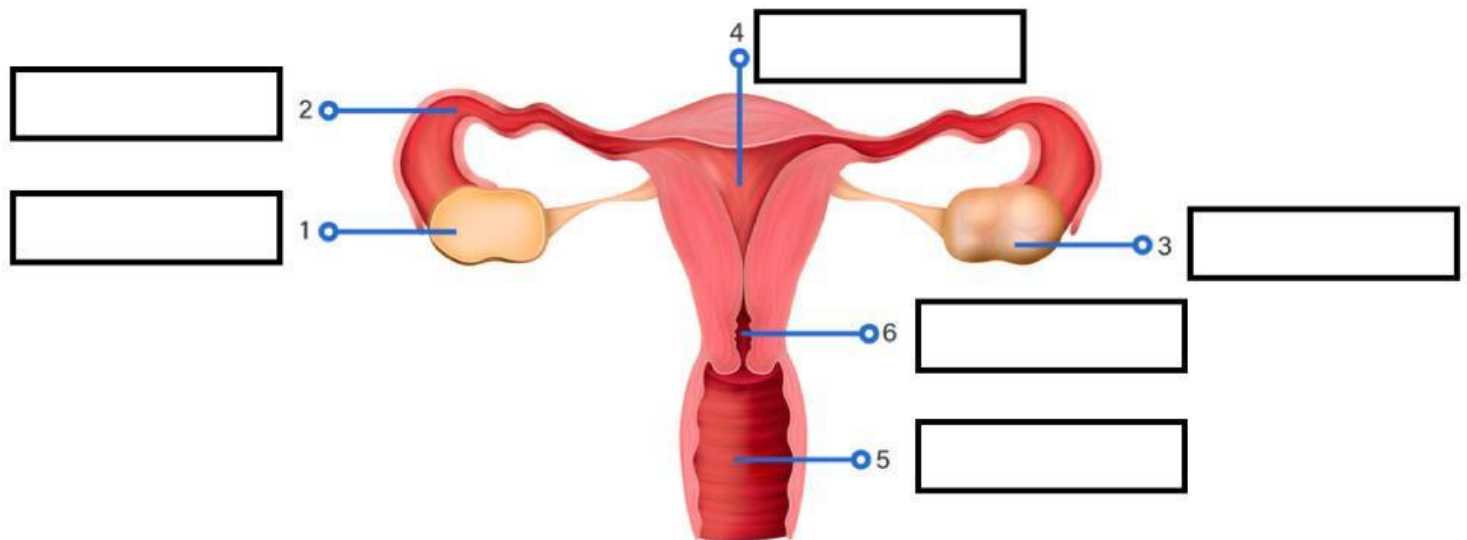
Isilah kotak kosong di bawah ini dengan nama organ yang tepat!



Tariklah jawaban di bawah ini!

Penis	Testis	Vesikula seminalis
Skrotum	Vas deferens	Uretra
Kelenjar cowper	Epididimis	Kelenjar prostat

Isilah kotak kosong di bawah ini dengan nama organ yang tepat!



Tariklah jawaban di bawah ini!

Vagina	Uterus	Serviks
Folikel	Tuba Falopi	Ovarium

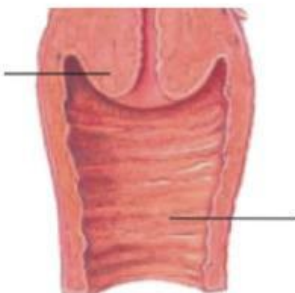
Perhatikan lingkaran di bawah ini dan tariklah sesuai fungsi yang benar!



Tempat berkembangnya janin



Tempat mengalirnya darah menstruasi



Tempat terjadinya fertilisasi/pembuahan

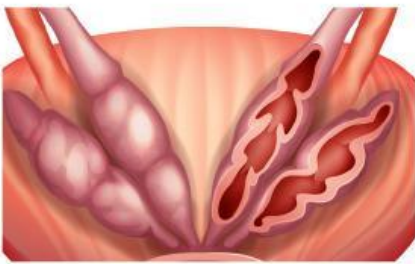


Tempat perkembangan ovum

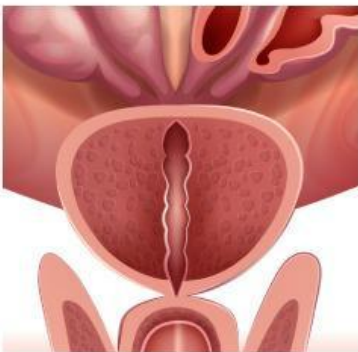
Perhatikan lingkaran di bawah ini dan tariklah sesuai fungsi yang benar!



Menghasilkan cairan yang bersifat asam



Tempat memproduksi sperma



Tempat keluarnya sperma



Kelenjar yang menghasilkan zat yang berisi basa (alkali)