





# HOJA DE TRABAJO

Nombre: \_\_\_\_\_ Fecha: \_\_\_\_\_

**I Serie:** anote en el recuadro, el reino al que pertenece cada ser.

**II Serie:** elija la respuesta correcta de acuerdo con el tipo de contaminación que se ilustra

	Lumínica	Térmica	Visual
	Lumínica	Térmica	Visual
	Lumínica	Térmica	Visual

**III Serie:** marque la opción "VERDADERO" o "FALSO" según amerite el enunciado.

- La tierra esta experimentando un proceso gradual de enfriamiento

VERDADERO	FALSO
-----------	-------

- Los recursos como el agua son renovables

VERDADERO	FALSO
-----------	-------

- Los bosques ayudan a limpiar la contaminación del aire

VERDADERO	FALSO
-----------	-------

**IV Serie:** resuelva la sopa de letras, encuentre las 10 palabras.

## Contaminación

P	R	A	D	I	A	C	I	Ó	N	D
E	N	S	U	C	I	A	R	X	D	F
E	Z	L	M	D	M	C	A	L	O	R
G	B	O	S	Q	U	E	S	D	S	L
G	A	I	R	E	P	L	J	P	V	O
S	U	E	L	O	U	T	N	D	C	K
Z	C	O	N	T	A	M	I	N	A	R
I	N	V	E	R	N	A	D	E	R	O
I	R	Q	W	G	O	C	E	A	N	O
O	C	I	B	Y	M	Z	Y	C	V	A
C	I	U	D	A	D	E	S	M	J	R

