



Curso: LABORATORIO I
Catedrática: Olga Gricelda Sac Texaj
4to. Bachillerato en Ciencias y Letras con Orientación en Computación
Sección "A"

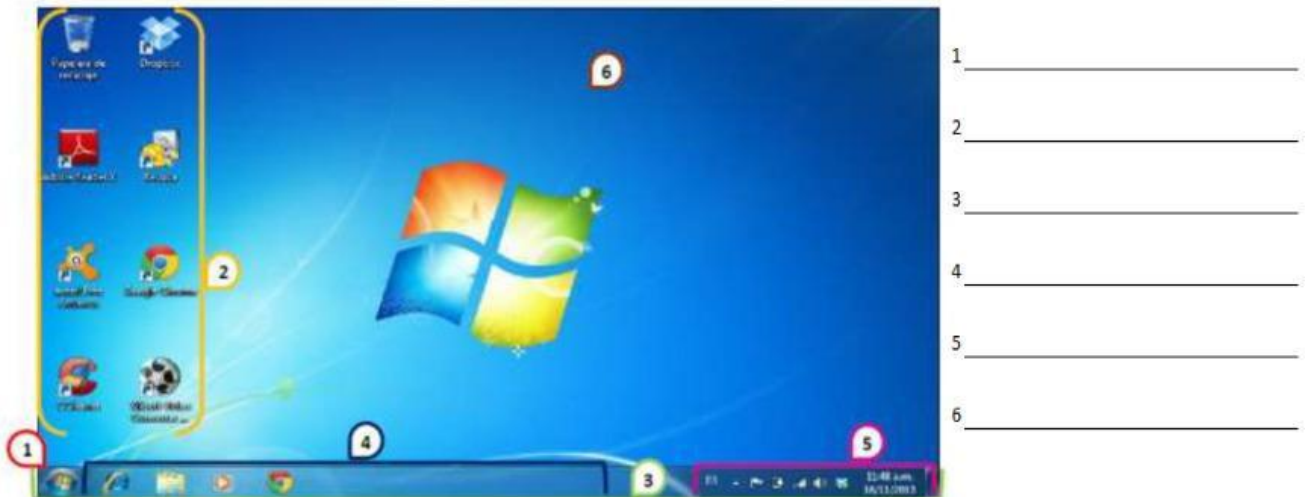
VERIFICACIÓN DE APRENDIZAJE I UNIDAD 2025

Nombre completo del estudiante: _____

Fecha: _____ Firma del padre de familia o encargado: _____

I SERIE: 6 puntos.

Instrucciones: Escriba los nombres de las partes principales del escritorio de Windows, en la numeración correspondiente.



II SERIE: 10 puntos.

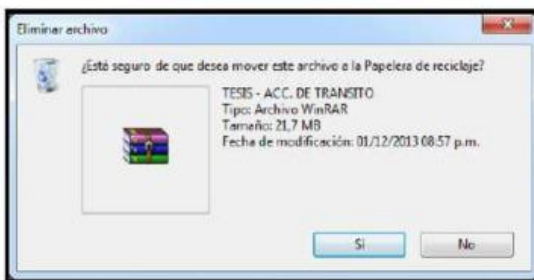
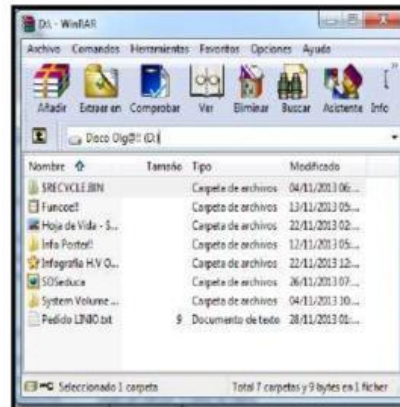
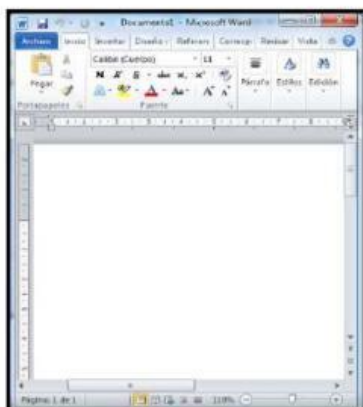
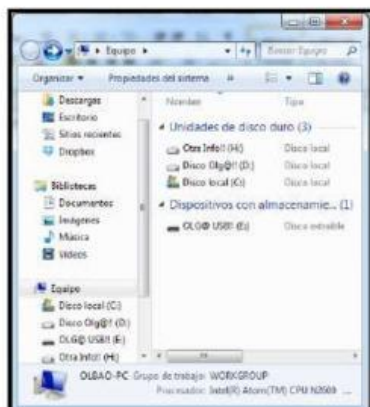
Instrucción: Escriba de forma ordenada los pasos para realizar las siguientes acciones.

1. Crear un acceso directo.
2. Reiniciar el PC.
3. Anclar un programa en la barra de tareas.
4. Crear una carpeta en Documentos.
5. Copiar y pegar un archivo con atajos.

III SERIE: 10 puntos.

Instrucción: Escriba en la parte de arriba de cada ventana, el número que le corresponde según su nombre.

1. Ventana de aplicación.
2. Ventana de Propiedades
3. Ventana de navegación
4. Ventana de documentos
- 5 Ventana cuadro de diálogo.



III SERIE: 6 puntos.

Instrucción: escribir la combinación de teclas que realizan las siguientes funciones.

No.	FUNCIÓN	COMBINACIÓN DE TECLAS
1	Apagar el computador.	
2	Eliminar un archivo de forma permanente.	
3	Seleccionar archivos consecutivos.	
4	Seleccionar todos los archivos.	