

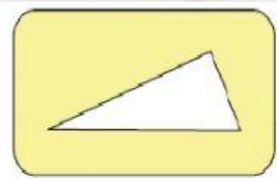


صل بين كل بطاقة من العمود الأول بالبطاقتين المناسبين لها من العمودين الثاني والثالث:

رتبة التماثل
الدوراني قدرها ٣

رتبة التماثل
الدوراني قدرها ٢

رتبة التماثل
الدوراني قدرها ١



ضعي علامة صح ام خطأ:

()

(١) رتبة التماثل الدوراني للمضلعات المنتظمة تساوي عدد الاضلاع



(٢) رتبة التماثل الدوراني للشكل المجاور ٢ ()

اخترى الاشكال التي لها رتبة تماثل دوراني ٤

