

1. Perhatikan gambar dibawah ini!
Yang merupakan contoh gambar cerita adalah nomor



2. Gambar ini disajikan dalam bentuk yang menarik/lucu dan biasanya berisi cerita yang menarik. Selain itu dapat digunakan untuk menghibur , tetapi juga memiliki arti dan tujuan dan maksud seperti menyampaikan sebuah pesan tersirat melalui gambar. Gambaran tersebut merupakan gambar

- A. realis
B. kartun
C. karikatur
D. dekoratif

3. Perhatikan pernyataan dibawah ini!

- (1) Membuat sketsa
(2) Menentukan tema
(3) Menyelesaikan gambar
(4) Persiapan bahan dan alat

Langkah-langkah membuat gambar bercerita dengan benar adalah

- A. (1), (2), (4), (3)
B. (4), (2), (3), (1)
C. (2), (1), (4), (3)
D. (4), (2), (1), (3)

4. Ciri-ciri tangga nada diatonis mayor adalah

- A. riang gembira, bersemangat
B. lembut, merdu
C. sedih, kurang bersemangat
D. sedih, mendayu-dayu

5. Tangga nada yang memiliki lima nada adalah

- A. pentatonis
B. kromatis
C. diatonis
D. mayor

6. Perhatikan tabel berikut!

P	Maju tak Gentar
Q	Hari Merdeka
R	Gugur Bunga
S	Syukur
T	Halo-halo Bandung

Lagu di atas yang termasuk dalam tangga nada minor adalah

- A. P - R
B. Q - S

C. R - S

D. S – T

7. Perhatikan gambar berikut!



Tari pada gambar tersebut menggunakan properti

A. gelang

B. ikat kepala

C. kipas

D. selendang

8. Perhatikan gambar berikut!



Fungsi utama propertis yang digunakan pada tarian tersebut adalah

A. sebagai hiasan

B. pelengkap tarian

C. mempertegas karakter

D. tema tarian

9. Bacalah dengan seksama ilustrasi berikut!

Gerakan tubuh yang dinamis, ritmis, dan memiliki unsur keindahan atau estetis. Unsur estetis dalam tarian harus ditonjolkan dalam sebuah tarian. Gerakan murni adalah gerak tanpa tujuan. Sedangkan gerak maknawi adalah gerakan yang memiliki makna atau maksud secara mendalam.

Unsur tari yang terdapat dalam ilustrasi tersebut adalah

A. wicara

B. wiraga

C. wirasa

D. wirama

10. Di bawah ini merupakan tujuan pembuatan reklame komersial

A. meningkatkan kesadaran masyarakat tentang berbagai masalah

B. memberikan informasi, peringatan, dan penerangan

C. pemberitahuan dan penjelasan serta himbauan

D. mempromosikan produk/jasa kepada khalayak umum

11. Perhatikan gambar berikut!



Proses membuat batik tulis pada gambar tersebut dinamakan

- A. membuat pola
- B. nglowong
- C. nemboki
- D. nglorot

12. Perhatikan gambar berikut!



Gambar motif batik tersebut berasal dari daerah

- A. Madura
- B. Cirebon
- C. Surakarta
- D. Gunungkidul

13. Reklame yang berisi himbauan untuk taat membayar pajak, menjaga kebersihan, dan mentaati peraturan merupakan contoh reklame

- A. komersial
- B. visual
- C. non komersial
- D. sosial

14. Perhatikan gambar berikut!



Jenis reklame tersebut berdasarkan urutan A, B, dan C adalah

- A. poster, spanduk, baliho
- B. leaflet, spanduk, poster
- C. poster, brosur, spanduk
- D. spanduk, poster, brosur

15. Reklame yang menggunakan media audio dan visual dapat kita jumpai di

- A. televisi
- B. spanduk
- C. koran
- D. radio


16. Perhatikan gambar berikut!



Gambar tersebut merupakan reklame jenis

- A. baliho
- B. pamflet
- C. leaflet
- D. buklet

17. Perhatikan gambar!



Gambar tersebut merupakan tangga nada jenis

- A. diatonis harmoni
- B. pentatonis mayor
- C. diatonis mayor
- D. diatonis minor

18. Perhatikan gambar!



Poster tersebut mempunyai tujuan


- A. himbauan untuk tidak membully teman
- B. himbauan untuk menghargai teman
- C. himbauan untuk tidak berkelahi
- D. himbauan untuk menjaga persatuan

19. Perhatikan gambar berikut!



Informasi yang didapatkan dari gambar tersebut adalah


- A. mengajak untuk mematuhi rambu lalulintas
 - B. menginformasikan tentang kegunaan helm
 - C. polisi menangkap pelanggar lalulintas
 - D. memperhatikan prosedur keselamatan berkendara
20. Rangkaian sejumlah nada atau bunyi, yang ditanggapi berdasarkan perbedaan tinggi rendah atau naik turunnya disebut
- A. akor
 - B. melodi
 - C. harmoni
 - D. interval
21. Perhatikan tangga nada berikut!



Tangga nada tersebut dinamakan tangga nada diatonik

- A. C mayor
 - B. C minor
 - C. D mayor
 - D. D minor
22. Berikut adalah contoh alat musik, seperti keyboard, piano, dan harpa kategori alat musik jenis
- A. harmonis
 - B. melodis
 - C. dinamis
 - D. ritmis

23. Perhatikan gambar berikut!



Pola tarian pada gambar diatas adalah

- A. kotak
- B. vertikal
- C. lingkaran

D. zig-zag

24. Nada pokok mayor yang memiliki jarak/interval 1/2 nada adalah

A. do

B. re

C. mi dan la

D. sol dan la



25. Perhatikan gambar!



Pembuatan patung pada gambar di atas menggunakan teknik

A. mencetak

B. memahat

C. membutsir

D. menyusun

26. Perhatikan gambar berikut!



Tarian pada gambar disamping berasal dari

A. Sumatra Barat

B. Papua

C. Jawa Tengah

D. Bali

27. Pola lantai vertikal ditunjukkan oleh gambar

A.

B.



C.



D.



28. Tari Serimpi merupakan tarian Jawa klasik yang sudah ada sejak zaman kerajaan. Tarian ini terkenal memiliki gerak yang sangat halus dan cerita yang mengandung nilai simbolis. Pada zaman Mataram, Serimpi berfungsi sebagai tari pengiring pada upacara kerajaan. Ciri khas tarian ini adalah bunyi gending dari gamelan yang mengikuti gerakan para penari. Properti yang digunakan pada tarian ini adalah

- A. kipas
- B. topeng
- C. tongkat
- D. selendang

29. Tari Bendrong Lesung merupakan salah satu tarian khas Provinsi Banten. Tepatnya berasal dari daerah Cilegon. Tarian ini sudah ada sejak dahulu kala. Para penari hanya mengikuti irama dan alunan yang keluar dari tumbukan lesung dan alu yang terbuat dari kayu. Suara "tak, tuk, tak, tuk" membuat para penari yang bertugas menumbuk tersebut bergoyang. Ketika sudah memasuki ritme yang lebih sulit, para penari yang lain mulai masuk dan menyanyi. Pertunjukan tari ini menjadi semakin semarak ketika salah seorang penari mengajak salah seorang penonton untuk menari. Tarian Bendrong Lesung tersebut dimainkan pada waktu

- A. menyambut tamu
- B. upacara penobatan raja
- C. merayakan pesta panen
- D. peringatan kelahiran

30. Perhatikan gambar berikut!



Nama tarian pada gambar di atas adalah

- A. Bambang Cakil
- B. Bondan
- C. Reog
- D. Kuda Lumping

31. Perhatikan kelompok alat berikut!

- (1) butsir
- (2) Las
- (3) pahat
- (4) cetakan
- (5) palu

Alat yang digunakan untuk membuat patung dari bahan kayu adalah

- A. (1) dan (2)

- B. (2) dan (3)
- C. (3) dan (5)
- D. (4) dan (5)

32. Perhatikan gambar berikut!



Patung pada gambar tersebut dibuat dengan menggunakan teknik

- A. membutsir
 - B. mencetak
 - C. konstruksi
 - D. memahat
33. Teknik membuat patung dengan memanfaatkan bahan lunak menggunakan jari-jari tangan dengan cara mengurangi dan menambahkan bahan disebut
- A. memahat
 - B. membutsir
 - C. mengukir
 - D. membentuk
34. Perhatikan gambar!



Berdasarkan pembuatannya, fungsi patung monument seperti pada gambar adalah....

- A. peringatan peristiwa sejarah
 - B. sarana ibadah
 - C. dinikmati keindahan bentuknya
 - D. penghias bangunan
35. Cermatilah cara membuat patung dari tanah liat berikut ini!
- (1) Campur tanah dengan air secukupnya
 - (2) Bentuk tanah liat sesuai yang diinginkan
 - (3) Proses penjemuran dan pembakaran patung
 - (4) Siapkan tanah liat yang sudah dibersihkan
- Urutan membuat patung dari tanah liat yang benar adalah
- A. (1), (2), (3), (4)
 - B. (2), (3), (4), (1)
 - C. (3), (4), (1), (2)

D. (4), (1), (2), (3)

36. Perhatikan pernyataan berikut!

- i. Memiliki corak khas daerah
- ii. coraknya memiliki makna simbolik
- iii. warna yang digunakan bebas
- iv. coraknya tidak memiliki makna simbolik


Berdasarkan pernyataan tersebut, ciri batik modern adalah

- A. i dan ii
- B. ii dan iii
- C. iii dan iv
- D. iv dan i

37. Media ini berisi tentang informasi yang biasanya terletak pada kemasan sebuah produk. Informasi-informasi tersebut memuat detail tentang produk tersebut. Tujuan penggunaan media ini untuk melindungi produk agar tidak rusak, serta membuat produk lebih menarik. Jenis media visual berdasarkan ilustrasi tersebut adalah

- A. banner
- B. brosur
- C. buklet
- D. embalase

38. Perhatikan tangga nada berikut!



Tangga nada tersebut termasuk dalam tangga nada

- A. diatonik mayor
- B. diatonik minor
- C. pentatonik
- D. kromatis

39. Unsur dari tari yang mengubah tampilan wajah penari sesuai dengan karakter tarian yang dibawakan adalah

- A. tata busana
- B. tata rias
- C. iringan tari
- D. properti tari

40. Patung yang murni dibuat untuk tujuan estetika merupakan jenis patung

- A. seni
- B. dekorasi
- C. religi
- D. souvenir