



GIẢI TOÁN CÓ LỜI VĂN

Bài 1: Quãng đường từ A đến B dài 182km. Lúc 8 giờ 25 phút một người đi xe hơi khởi hành từ A và đến B vào lúc 14 giờ. Giữa đường người đó cho xe nghỉ 2 lần tất cả hết 2 giờ 5 phút. Tính vận tốc giờ của xe hơi?




Bài 2: Đường từ nhà An đến trường dài 1,4km. Mỗi ngày An đi từ nhà đến trường kể cả đi và về hết 40 phút. Hỏi:

- a) Mỗi giờ An đi được bao nhiêu kilômét?
- b) Muốn đến trường vào lúc 6 giờ 45 phút thì An phải khởi hành từ nhà lúc mấy giờ?




Bài 3: Một người đi xe ô tô từ A đến B mất 3 giờ 45 phút. Đường từ A đến B dài 115km. Hỏi:


- a) Tính vận tốc của xe ô tô biết giữa đường người đó nghỉ hết 1 giờ 15 phút.
- b) Người đó khởi hành từ A lúc 6 giờ 30 phút thì đến B lúc mấy giờ?



Bài 4: Một người đi xe gắn máy khởi hành từ A lúc 11 giờ 15 phút. Với vận tốc 36km / giờ và đến B lúc 15 giờ 45 phút. Trên đường đi người đó dừng lại để nghỉ hết 1 giờ 10 phút. Hỏi A cách B bao nhiêu kilômét?



Bài 5: Một người đi xe gắn máy khởi hành từ nhà lúc 7 giờ 15 phút. với vận tốc 36km/giờ và đến thành phố lúc 10 giờ. Trên đường đi người đó dừng lại để nghỉ 2 lần một lần hết 50 phút và một lần hết 35 phút. Hỏi đường từ nhà lên thành phố dài bao nhiêu kilômét?




Bài 6: Gò Công cách Sài Gòn 60 km. Lúc 8 giờ ~~48~~⁴⁷ phút một người lái xe ô tô từ Sài Gòn về Gò Công với vận tốc 54km/giờ. Đến 9 giờ 50 phút thì xe bị hỏng máy. Hỏi chỗ bị hỏng máy cách Sài Gòn bao nhiêu kilômet, cách Gò Công bao nhiêu kilômet?


Bài 7: Quãng đường AB dài 102km. Lúc 7 giờ 48 phút, một người đi ô tô khởi hành từ A và đi đến B lúc 10 giờ ~~32~~³⁸ phút. Tính vận tốc của ô tô, biết giữa đường ô tô nghỉ 20 phút?

Bài 8: Lúc 13 giờ 45 phút, một chiếc xe máy xuất phát từ A đi đến B với vận tốc 40 km/giờ. Biết quãng đường AB dài 32km. Hỏi xe máy đến B lúc mấy giờ?

Bài 12: Một ô tô đi từ A lúc 12 giờ 15 phút và đến B lúc 17 giờ 35 phút. Dọc đường ô tô nghỉ trong 1 giờ 5 phút . Hãy tính vận tốc của ô tô, biết quãng đường AB dài 170 km.



Bài 13: Lúc 8 giờ một người đi xe đạp từ nhà với vận tốc 12 km/ giờ và đi đến bưu điện huyện. Dọc đường người đó phải dừng lại sửa xe mất 15 phút nên đến bưu điện huyện lúc 9 giờ 45 phút. Tính quãng đường người đó đi từ nhà đến bưu điện huyện.



Bài 14: Lúc 6 giờ 30 phút anh Hai đạp xe từ nhà mình với vận tốc 12 km/giờ để đến nhà bạn chơi. Anh đến nhà bạn lúc 7 giờ 10 phút. Vậy quãng đường từ nhà anh Hai đến nhà bạn dài bao nhiêu km.

