











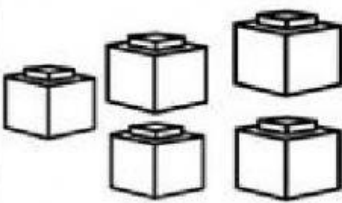





CERCHIA PER OGNI RIQUADRO I SOLDI CHE SERVONO PER COMPRARE OGNI PRODOTTO

 <div>19 €</div>	 
 <div>9 €</div>	 
 <div>15€</div>	 

QUANTI SOLDI HANNO LAURA, CLAUDIO ED ELISA?
CHI DI LORO HA ABBASTANZA SOLDI PER COMPARE LA SCATOLA DI LEGO?

 <div>LAURA HA...</div>	 <div>CLAUDIO HA...</div>	 <div>ELISA HA...</div>	<div>18€</div>  <div>IL BAMBINO CHE PUO' COMPRARE LA SCATOLA DI LEGO E'</div>
 <div>.....€</div>	 <div>.....€</div>	 <div>.....€</div>	