

EXÁMENES




SEGUNDO GRADO

Práctica: N°1

Profesor: Luis Enrique Lazo Vásquez

1.- ¿Cuántos lados tiene el pentágono?



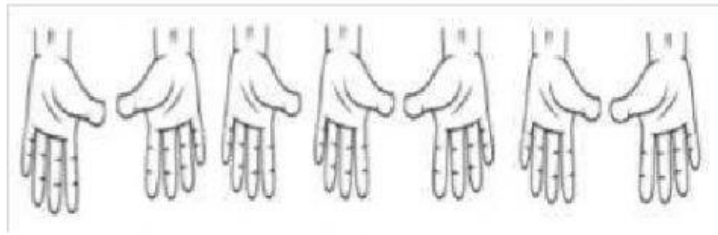
Respuesta:

2.- ¿Cuántas pelotas hay al lado izquierdo de la niña?



Respuesta:

3.- ¿Cuenta los dedos de las manos derechas que observas?



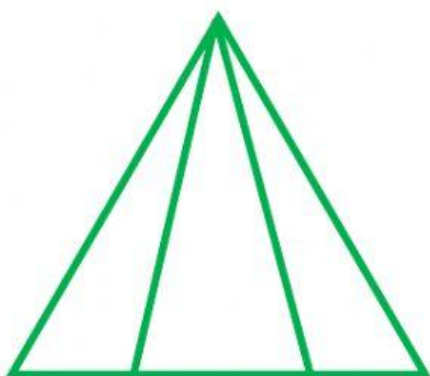
Respuesta:

4.- ¿Cuántos puntos negros vez en el dado?



Respuesta:

5.- ¿Cuántos triángulos observas en la siguiente figura?



Respuesta:

6.- Escribe el consecuente:

; 24 ;

Respuesta:

7.- ¿Qué número continúa en la serie?

11 ; 13 ; 15 ; 17 ;

Respuesta:

8.- ¿Cuánto suman los puntos visibles del dado?



Respuesta:

9.- ¿Cuál es el mayor?

25;78;56;99

Respuesta:

10.- Resolver la suma:

64 + 25 =