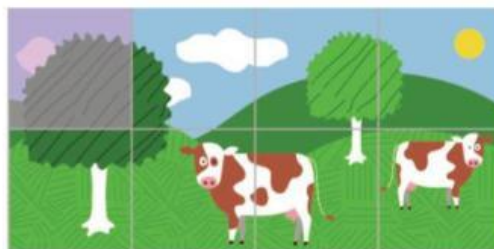




UNIDAD 15. ÁREAS



El área es la superficie que cubre una figura.



La superficie que cubre la fotografía es 8 veces la superficie que cubre 1 cuadrado de papel.



Todas estas figuras son distintas, pero están cubiertas por la **misma** cantidad de cuadrados

Pregunta: ¿Tienen todas también el mismo perímetro?

Estas figuras tienen un área de 4 cuadrados.

Pregunta: si cada cuadrado tiene un área de 3. ¿Cuál será el área de estas figuras?

<https://www.mundoprimeria.com/juegos-educativos/juegos-matematicas/juego-superficie-poligonos>

<https://www.mundoprimeria.com/juegos-educativos/juegos-matematicas/juego-unidades-cuadradas>