


Bé hãy đếm các phương tiện giao thông và tích chọn vào ô số tương ứng



2 4 3



5 3 6




2 5 4




1 5 6




4 6 5



3 2 4



3 4 5



1 2 3