

UNIDADES DE TIEMPO

Ejercicio 1: ¿En qué momento del día estamos?

1. Son las 5:30 AM, estamos en la -----.
2. Son las 13:15, estamos en la -----.
3. Son las 22:45, estamos en la -----.
4. Son las 11:50, estamos en la -----.
5. Son las 18:30, estamos en la -----.

Ejercicio 2: Problemas de tiempo

- Si un tren sale a las 14:30 y llega a las 17:15, ha tardado-----
- Si un programa de televisión dura 90 minutos, su duración en horas es -----
- Un reloj marca las 22:30. Dentro de 1 hora y media serán las -----

Ejercicio 3: Completa con la opción correcta




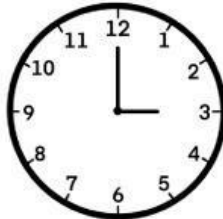






1. Un día tiene ----- horas.
2. Una hora tiene ----- minutos.
3. Un minuto tiene ----- segundos.
4. Un lustro equivale a ----- años.
5. La noche comienza a las ----- horas.

Ejercicio 4: Relaciona cada unidad de tiempo con su equivalencia

1. 1 semana = ----- días.
2. 1 siglo = ----- años.
3. 1 década = ----- años.
4. 1 milenio = ----- años.
5. 1 quincena = ----- días.

LA HORA

Mira la hora de cada reloj y selecciona la hora correcta:

 <input type="text"/>	 <input type="text"/>
 <input type="text"/>	 <input type="text"/>
 <input type="text"/>	 <input type="text"/>
 <input type="text"/>	 <input type="text"/>
 <input type="text"/>	 <input type="text"/>