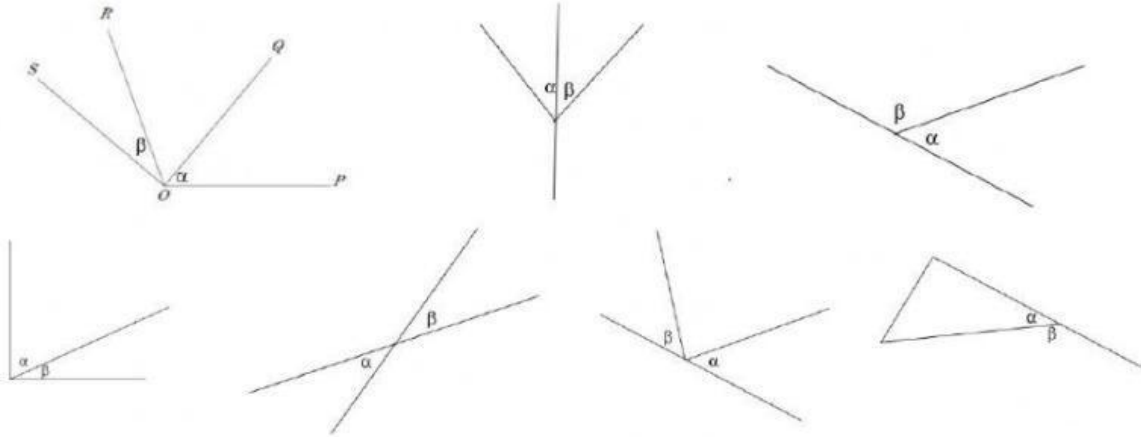
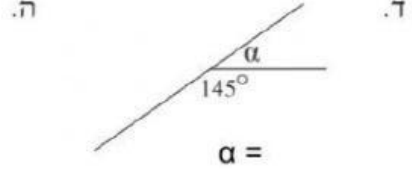
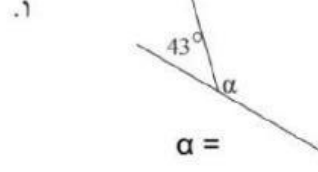
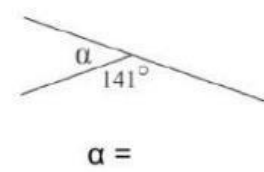
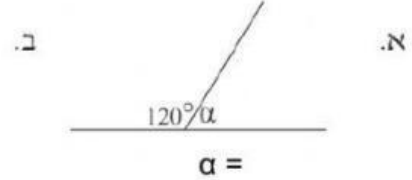
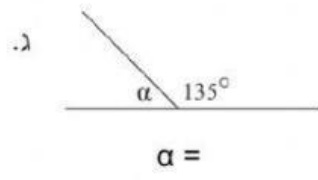
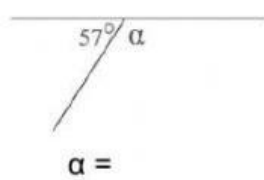


זוויות צמודות

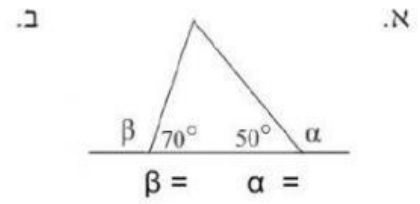
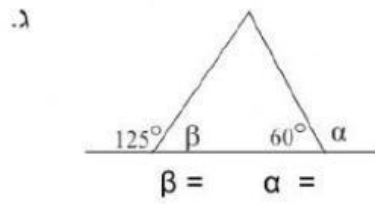
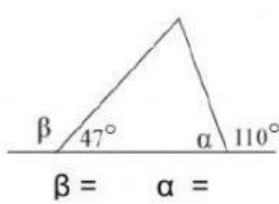
1. באיזה סרטוט? α ו- β הן זוויות צמודות. נא לסמן V ליד זוויות צמודות.



2. מצאו את α בתרגילים הבאים.



3. בכל אחד מהמשולשים הבאים המשיכו את הצלעות משני הצדדים. מצאו את α ו- β .



4. בכל אחד מהסרטוטים הבאים יש שתי זוויות צמודות. מצאו את x.

