

6

ORGANIZA LA INFORMACIÓN, ELIGE LA OPERACIÓN Y RESPONDE A LA PREGUNTA

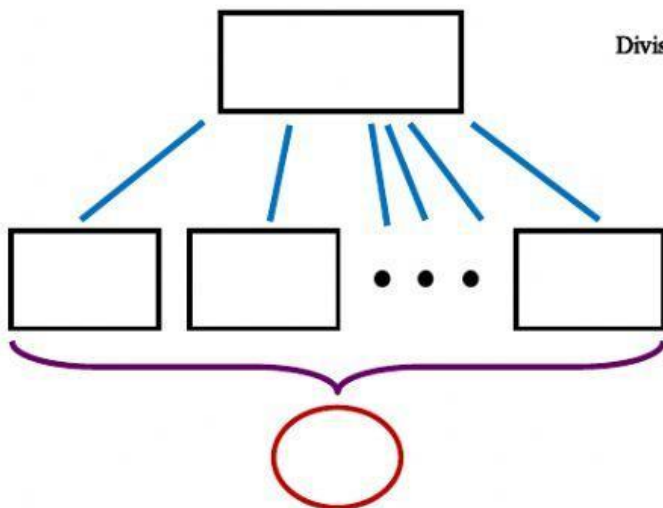
Esta extraña pista tiene una longitud de 325 metros por vuelta en la calle 1.
Felipe y Fabiola hicieron 4550 m. en el entrenamiento de hoy.
¿Cuántas vueltas dio cada uno a la pista?



¿Qué tres cosas se relacionan en el problema?

¿Qué me dan y qué me piden?

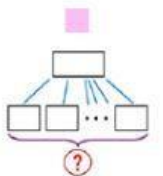
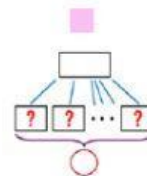
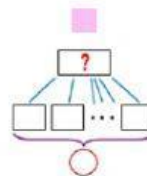
- Número de partes →
- Valor de cada parte →
- Total →



Multiplicación

☐

División

☐


Elige

Respuesta: