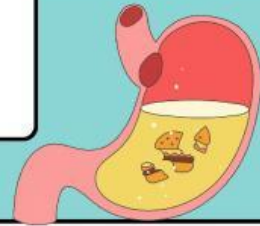


Nama: \_\_\_\_\_

Kelas: \_\_\_\_\_

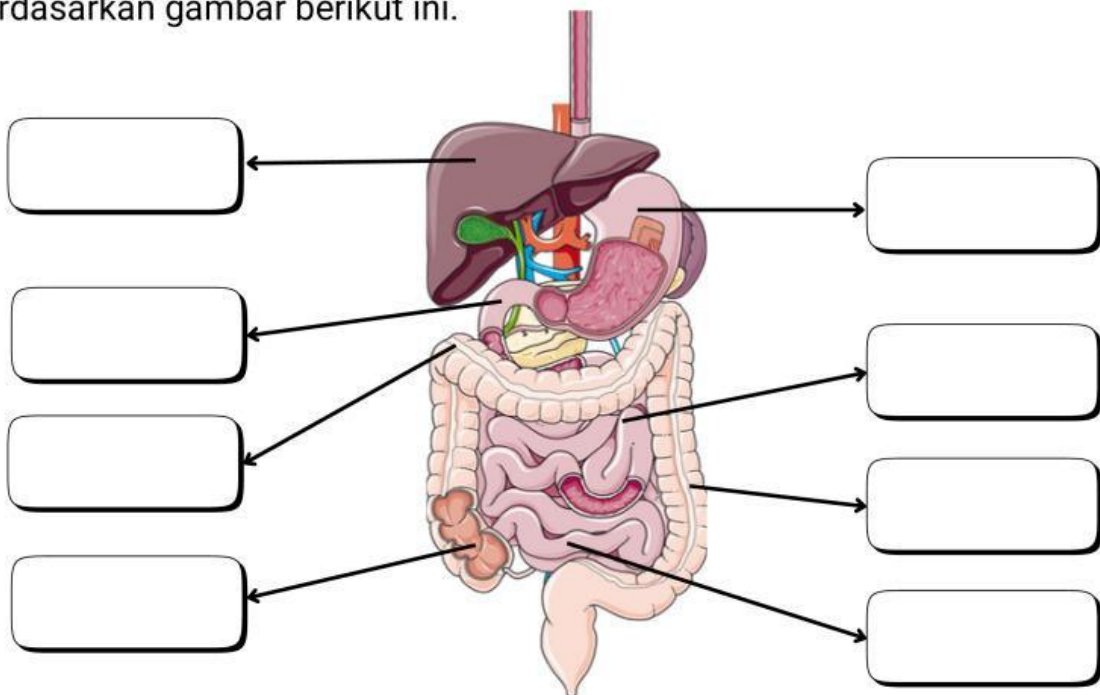
# Sistem Pencernaan Manusia



Kerjakanlah tugas-tugas di bawah ini!

1

Setelah mempelajari materi tentang sistem pencernaan manusia, identifikasilah organ-organ yang berperan dalam sistem pencernaan manusia berdasarkan gambar berikut ini.

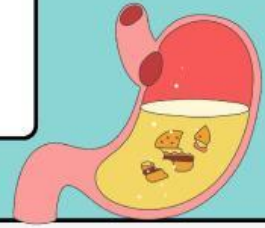


2

Carilah informasi dari sumber digital seperti Youtube, website, jurnal, maupun artikel yang menjelaskan tentang kelenjar pencernaan dan enzim yang dihasilkan. Tuliskan Kembali enzim yang berperan dalam proses pencernaan manusia.

**Jawab:**

# Sistem Pencernaan Manusia



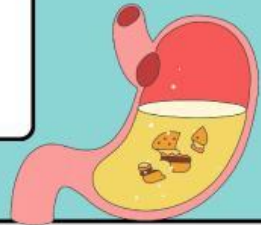
Kerjakanlah tugas-tugas di bawah ini!

3

Amatilah video berikut ini! Setelah mengamati video tersebut, jelaskan dengan menggunakan bahasamu sendiri bagaimana proses pencernaan makanan dari ingesti hingga defekasi!

**Jawab:**

# Sistem Pencernaan Manusia



Kerjakanlah tugas-tugas di bawah ini!

4

Kunjungi sumber digital di bawah ini! Setelah mengunjungi sumber digital tersebut, analisislah penyebab gastritis berdasarkan sumber digital tersebut!

**Jawab:**

5

Buatlah poster digital yang menarik dan informatif tentang upaya menjaga Kesehatan sistem pencernaan manusia. Selanjutnya kumpulkan pada link berikut ini: