

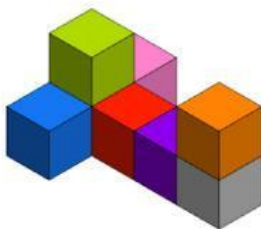


SUMATIF TENGAH SEMESTER 2
SDN KEPER
KECAMATAN KREMBUNG KABUPATEN SIDOARJO
TAHUN PELAJARAN 2024/2025

Nama Lengkap :	Mata Pelajaran : Matematika
Kelas : VI (Enam)	
Hari/ Tanggal :	Alokasi Waktu : 60 menit

A. Pilihlah jawaban yang benar pada huruf a, b, c, atau d !

1. Perhatikan gambar berikut !



Asta akan membuat sebuah bangun seperti pada gambar di atas. Banyak kubus yang diperlukan oleh Asta yaitu . . .

- A. 6
- B. 7
- C. 8
- D. 9

2. Perhatikan gambar berikut !



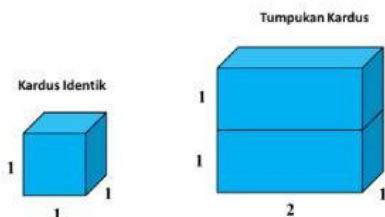
Aldi menggunakan beberapa kardus untuk membuat bangun di atas. Kardus tersebut berbentuk kubus. Banyak kardus yang diperlukan oleh Aldi yaitu . . .

- a. 13
- b. 14
- c. 15
- d. 16

3. Dedi memiliki tiga kubus. Dia akan membuat bangunan tiga lantai. Banyak kemungkinan untuk membuat bangunan tersebut yaitu. . .

- a. 1
- b. 2
- c. 3
- d. 4

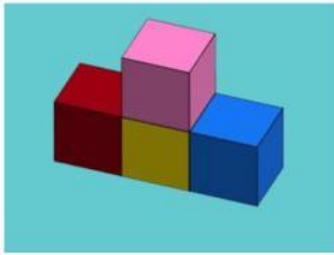
4. Perhatikan gambar berikut !






Tumpukan kardus di atas tersusun atas kardus-kardus identik berbentuk kubus seperti contoh. Banyak kardus yang ada pada tumpukan tersebut . . .

- A. 2
- B. 4
- C. 6
- D. 8

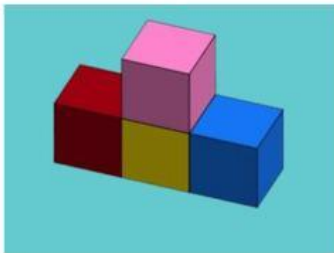
5. Perhatikan gambar berikut !






Susunan kubus di atas jika dilihat dari depan, maka akan tampak seperti. . .



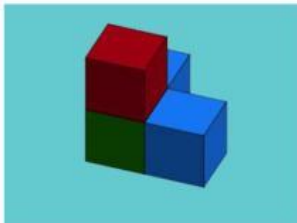
6. Perhatikan gambar berikut !



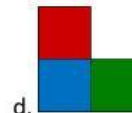
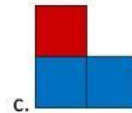
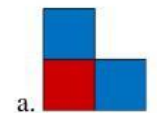
Susunan kubus di atas jika dilihat dari atas, maka akan tampak seperti. . .



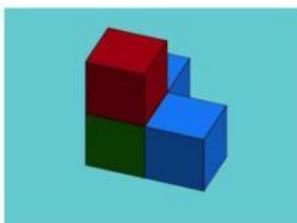
7. Perhatikan gambar berikut !




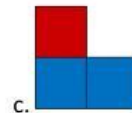
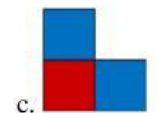
Susunan kubus di atas jika dilihat dari depan, maka akan tampak seperti. . .




8. Perhatikan gambar berikut !



Susunan kubus di atas jika dilihat dari kanan, maka akan tampak seperti. . .




9. Perhatikan gambar berikut !



Apabila dilihat dari kanan, maka banyak persegi yang memiliki warna yang berbeda yaitu . .

- A. 3
- B. 4
- C. 5
- D. 6

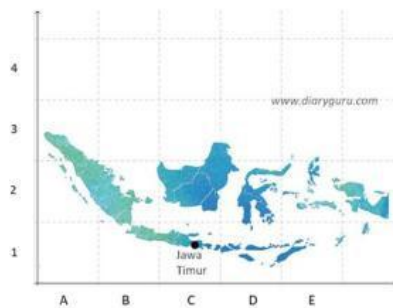
10. Perhatikan gambar berikut !



Apabila dilihat dari atas, maka banyak persegi yang memiliki warna yang berbeda yaitu . .

- A. 5
- B. 6
- C. 7
- D. 8

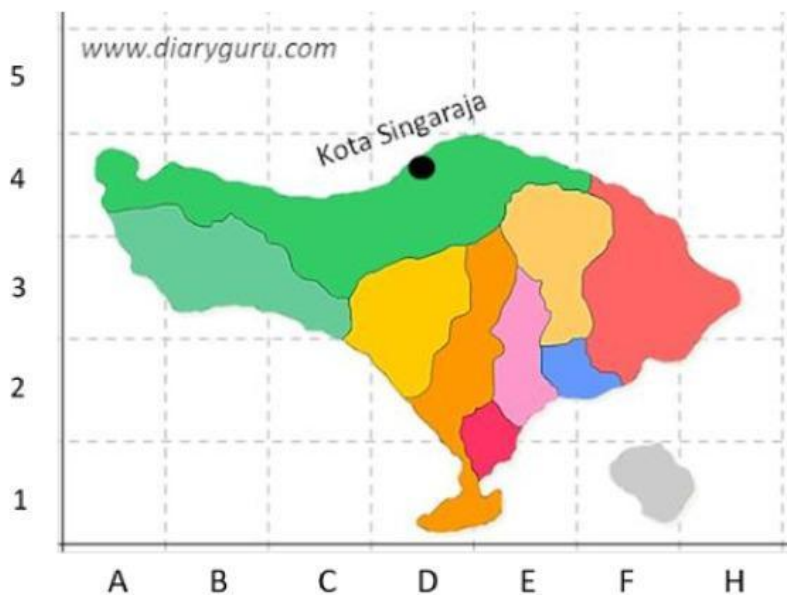
11. Perhatikan gambar berikut !



Adit menceritakan pengalamannya berlibur di Jawa Timur. Adit menunjukkan letak tempat berliburnya pada peta yang ada di kelas. Tempat liburan Adit terletak pada petak. . .

- A. B1
- B. B2
- C. C1
- D. C2

12. Perhatikan gambar berikut !



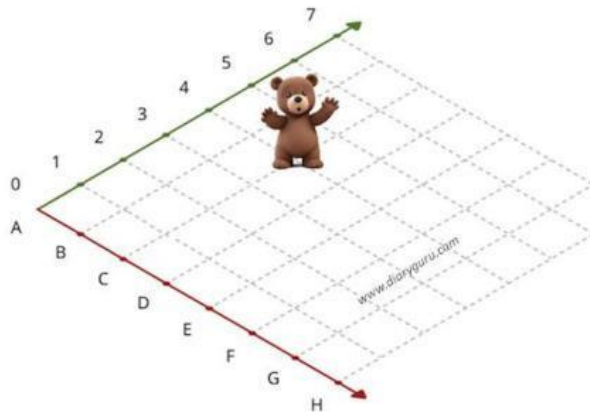
Sri berasal dari Kota Singaraja. Dia menunjukkan pada peta bahwa daerah asalnya terletak pada petak. .

- A. C4
- B. C5

C. D4

D. D5

13. perhatikan gambar berikut !



Letak beruang pada gambar di atas yaitu . .

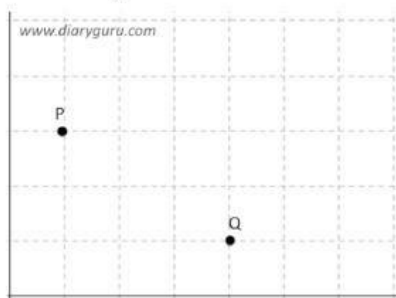
A. (B,4)

B. (B,5)

C. (C,4)

D. (C,5)

14. perhatikan gambar berikut !



Jarak titik P ke titik Q yaitu . .

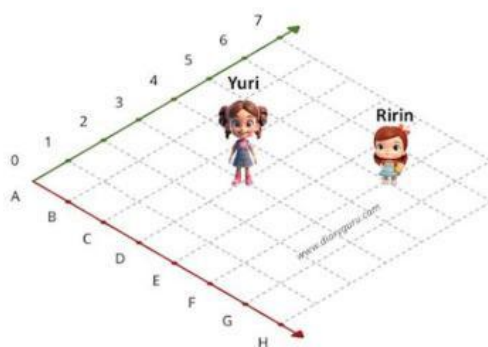
A. 2 petak ke kanan dan 2 petak ke bawah

B. 3 petak ke kanan dan 2 petak ke bawah

C. 2 petak ke kanan dan 2 petak ke atas

D. 3 petak ke kanan dan 2 petak ke atas

15. Perhatikan gambar berikut !



Jarak titik Yuri ke titik Ririn yaitu . .

A. 2 petak ke kanan dan 2 petak ke bawah

B. 2 petak ke kanan dan 2 petak ke atas

C. 3 petak ke kanan dan 3 petak ke bawah

D. 3 petak ke kanan dan 3 petak ke atas