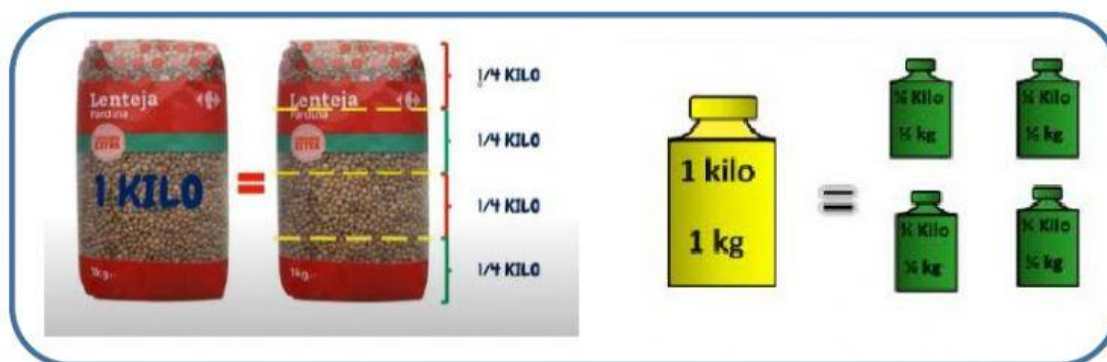
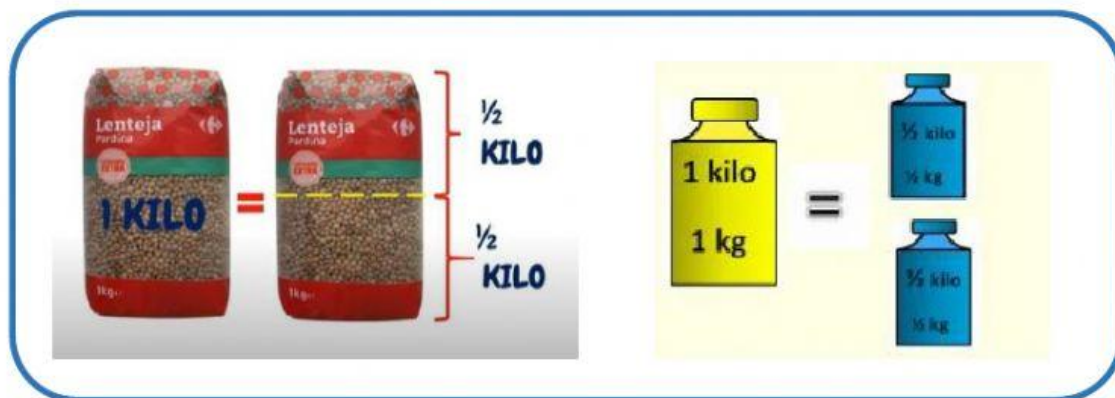
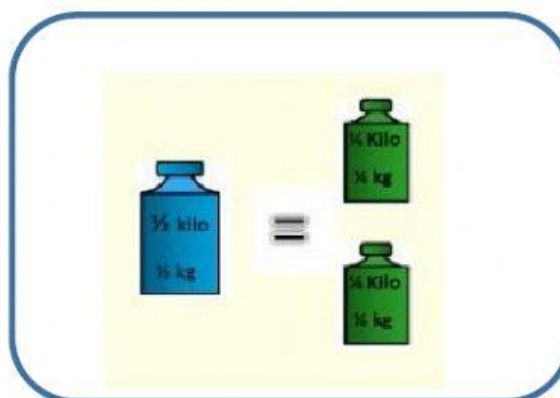




EL KILO, MEDIO KILO Y CUARTO KILO



Por lo que, observa:



Selecciona el peso correspondiente:

	<p>Dos kilos y medio</p> <p>Tres kilos</p> <p>Dos kilos</p>
	<p>1 kilo y medio</p> <p>1 kilo</p> <p>2 kilos</p>
	<p>2 kilos y medio</p> <p>2 kilos</p> <p>1 kilo y medio</p>
	<p>2 kilos y medio</p> <p>3 kilos</p> <p>2 kilos</p>
	<p>2 kilos</p> <p>4 kilos</p> <p>3 kilos</p>
	<p>3 kilos y medio</p> <p>4 kilos</p> <p>5 kilos</p>

