

Nombre: _____

Fecha: _____


Grado: Cuarto

Criterio: 8

Tema: **Recopila sistemáticamente y representa datos en una recta numérica, gráfica (de barra, pictóricas, lineal, circular, diagrama de puntos) y tablas (conteo y frecuencia).**

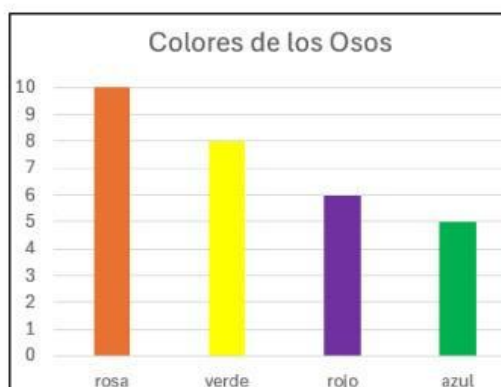
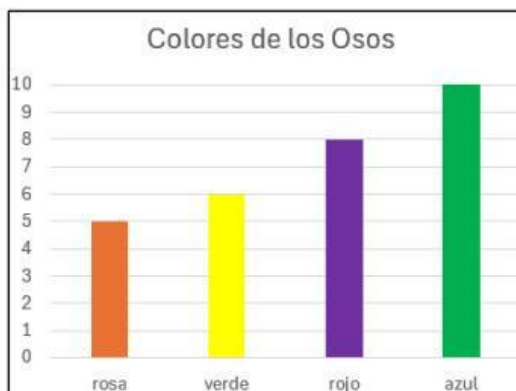
Instrucciones: Utiliza las siguientes figuras para responder las preguntas.

1. Observa la siguiente imagen y organiza los datos en una tabla de conteo que muestre los datos.

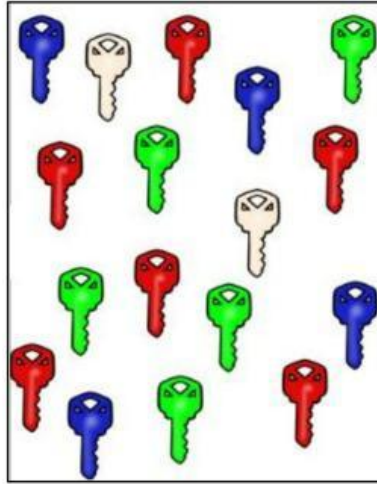


Osos por color	Conteo	Cantidad
rosa		
azul		
verde		
rojo		

2. ¿Qué gráfica representa la cantidad de osos que hay por colores?



3. Observa la siguiente imagen y organiza los datos en una tabla de conteo que muestre los datos.



Color de las llaves	Conteo	Cantidad
blanco		
azul		
verde		
rojo		