



Kurikulum
Merdeka

MERDEKA
BELAJAR



Merdeka
Mengajar



Rangkuman IPAS

Kelas 4

Bab 1



Follow

Siti Koniah / mama.guru3



LIVEWORKSHEETS

Topik A

Bagian Tubuh Tumbuhan & Fungsinya

Bunga

Tempat berkembangbiakan tumbuhan. Bunga yang sudah berkembang biak akan menjadi biji. Biji inilah yang nantinya bisa ditanam kembali

Daun

Menyerap sinar matahari dan menggunakan energinya untuk membuat makanan

Buah

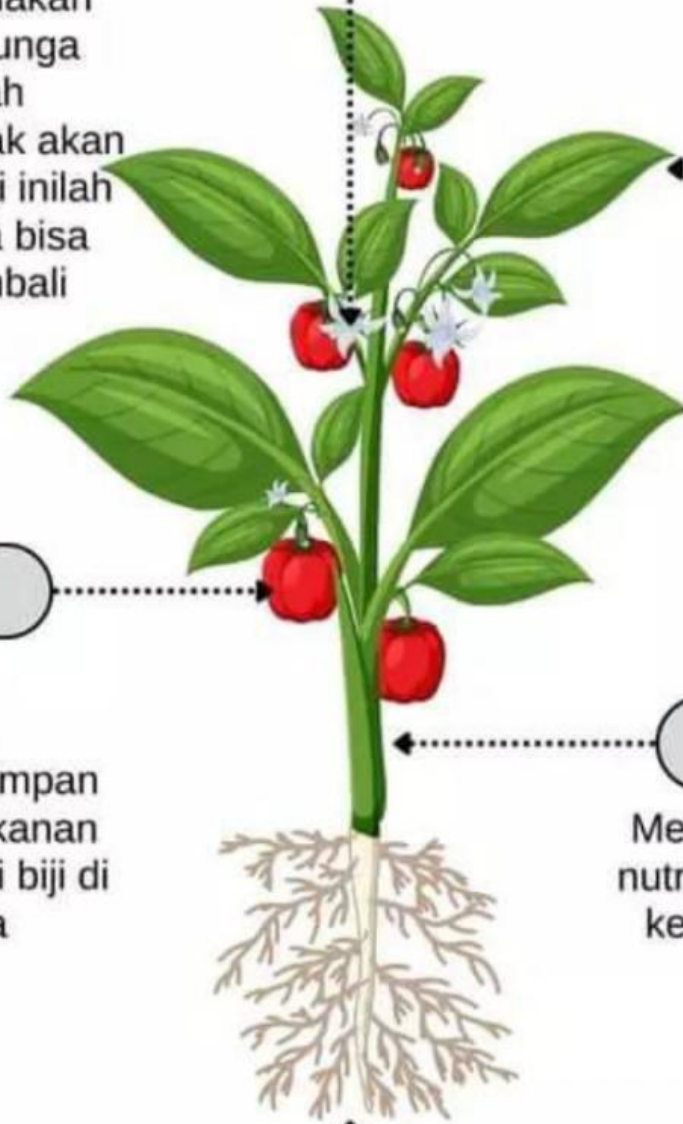
Tempat menyimpan cadangan makanan dan melindungi biji di dalamnya

Batang

Menghantarkan air, nutrisi, dan makanan ke seluruh bagian tumbuhan

Akar

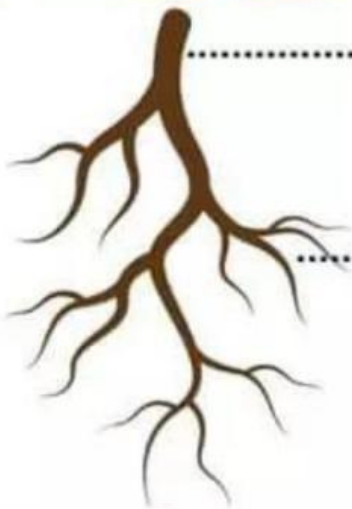
Menyerap air dan nutrisi dari dalam tanah, juga untuk menopang tumbuhan



Mengenal Akar Lebih Jauh

Ada 2 jenis akar

Akar Tunggang



Akar utama

Akar cabang

- Memiliki akar utama dari pangkal batang
- Pada akar utama tumbuh akar cabang yang ukurannya lebih kecil.

Contoh tumbuhan berakar tunggang:

- Wortel
- Mangga, dll

Akar Serabut



Akar cabang

- Dari pangkal batang, terbagi menjadi akar-akar cabang yang ukurannya lebih kecil

Contoh tumbuhan berakar serabut:

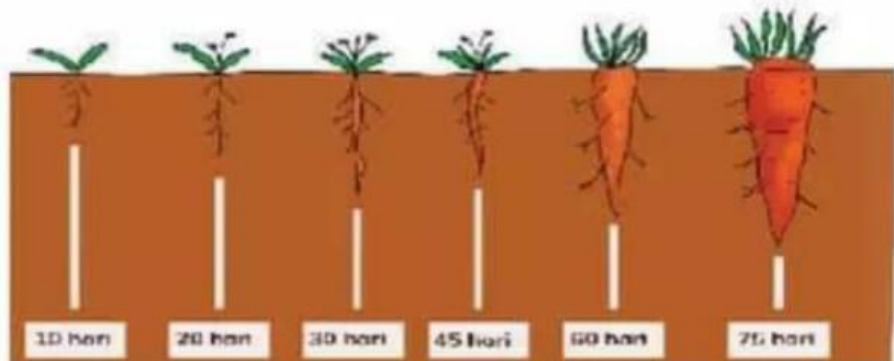
- Singkong
- Kelapa, dll

Akar juga bisa menjadi tempat cadangan makanan bagi tumbuhan

1. Contoh tumbuhan yang menyimpan cadangan makanan di akar tunggang:




Wortel



- Wortel menyimpan cadangan makanannya di dalam akar. Jadi jika kalian memakan wortel, sebenarnya kalian memakan akar.

2. Contoh tumbuhan yang menyimpan cadangan makanan di akar serabut:



Singkong

- Setiap akar cabang pada akar serabut akan membesar menjadi singkong.
- Cadangan makanan yang tersimpan dan membesar ini bisa kita sebut sebagai umbi.



Siti Koniah / mama.guru3

Manfaat Bagian Tumbuhan bagi Manusia



- Sebagai sumber bahan pangan.



- Sebagai bahan perabot rumah, jembatan, layang-layang, dan masih banyak lagi.



- Sebagai bahan pembuat obat-obatan, seperti: minyak kayu putih & jamu tradisional.



Mengamati Tulang Daun



Macam-macam Tulang Daun

Tulang Daun Menyirip



- Memiliki bentuk seperti susunan tulang ikan.

Contoh: Daun Jambu Biji, Daun Nangka, Daun Rambutan, dll

Tulang Daun Menjari



- Memiliki susunan layaknya jari tangan yang dilebarkan.

Contoh: Daun Singkong, Daun Pepaya, Daun Labu, dll.

Tulang Daun Melengkung



- Memiliki susunan berupa garis-garis lengkung. Umumnya daun ini memiliki satu tulang yang besar di tengah dan tulang lainnya akan mengikuti jalannya tepi daun

Contoh: Daun Sirih, Daun Genjer, Daun Gadung, dll

Tulang Daun Sejajar



- Memiliki bentuk tulang daun seperti garis-garis lurus sejajar. Semua tulang daun sejajar biasanya terlihat memiliki arah yang sejajar dengan ibu tulangnya.

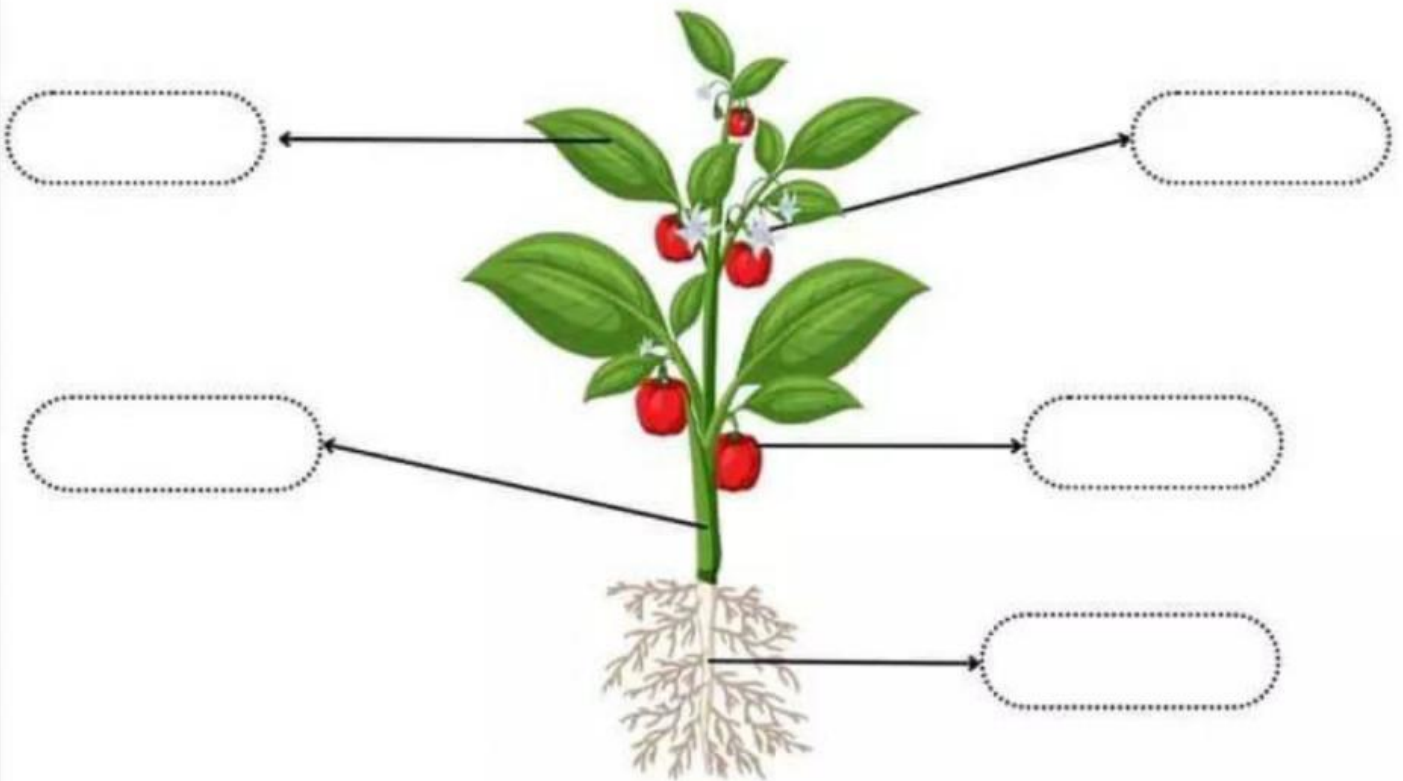
Contoh: Daun Pandan, Daun Padi, Daun Kelapa, Daun Rumput, dll.

Nama:

Kelas : IV (empat)

BAGIAN TUMBUHAN DAN FUNGSINYA

1. Lengkapilah nama bagian-bagian tumbuhan berikut !



2. Pasangkanlah nama bagian tumbuhan berikut dengan fungsinya !

Akar	●	●	Alat perkembangbiakan pada tumbuhan
Batang	●	●	Menyimpan cadangan makanan dan melindungi biji di dalamnya
Daun	●	●	Membawa air dan nutrisi dari akar ke seluruh bagian tumbuhan
Bunga	●	●	Tempat terjadinya fotosintesis (membuat makanan)
Buah	●	●	Menyerap air dan nutrisi dari dalam tanah juga untuk menopang tumbuhan



Bagian Tumbuhan



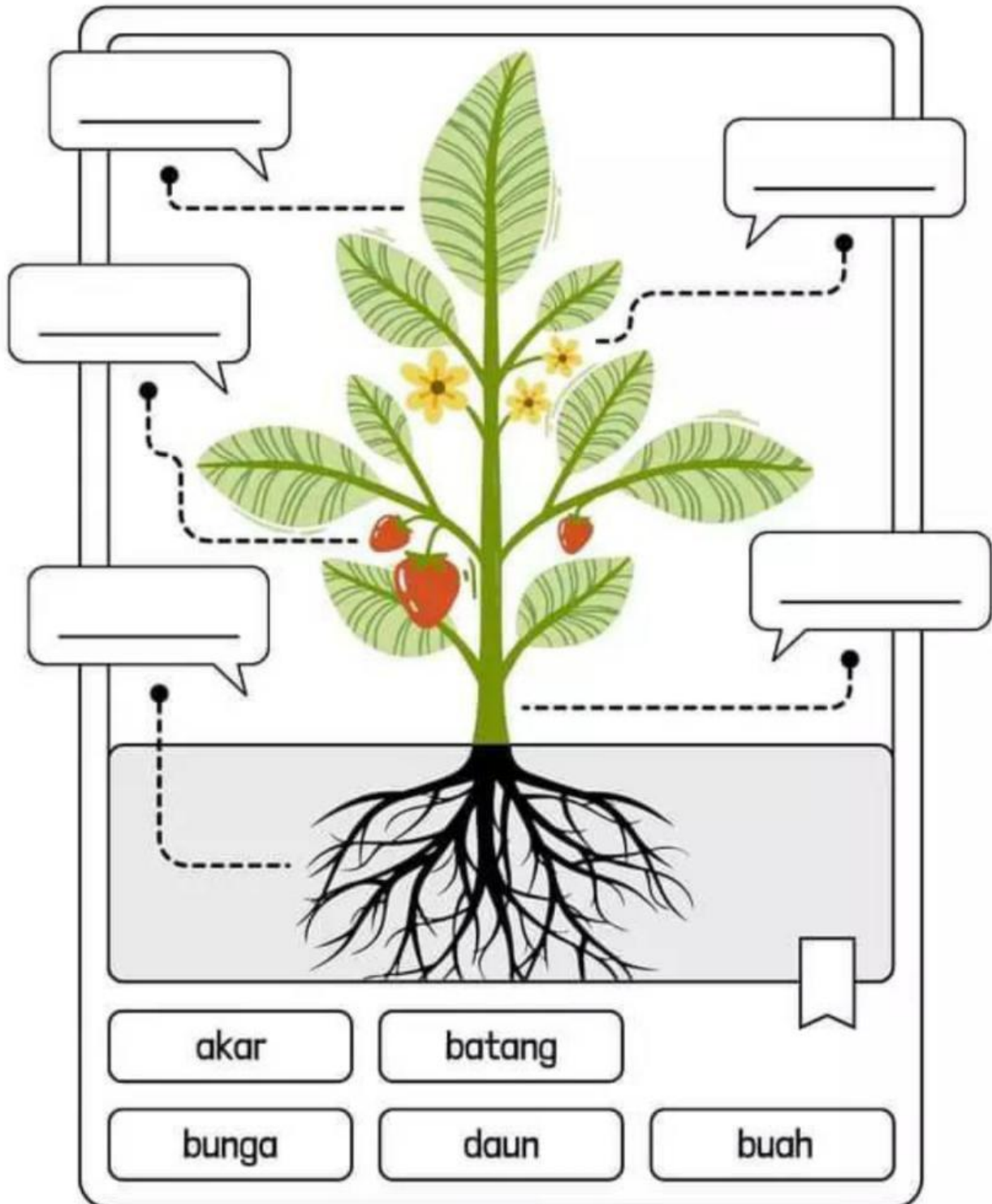
Nama:



Kelas:



Tulishlah jawaban kamu pada kotak yang tersedia!

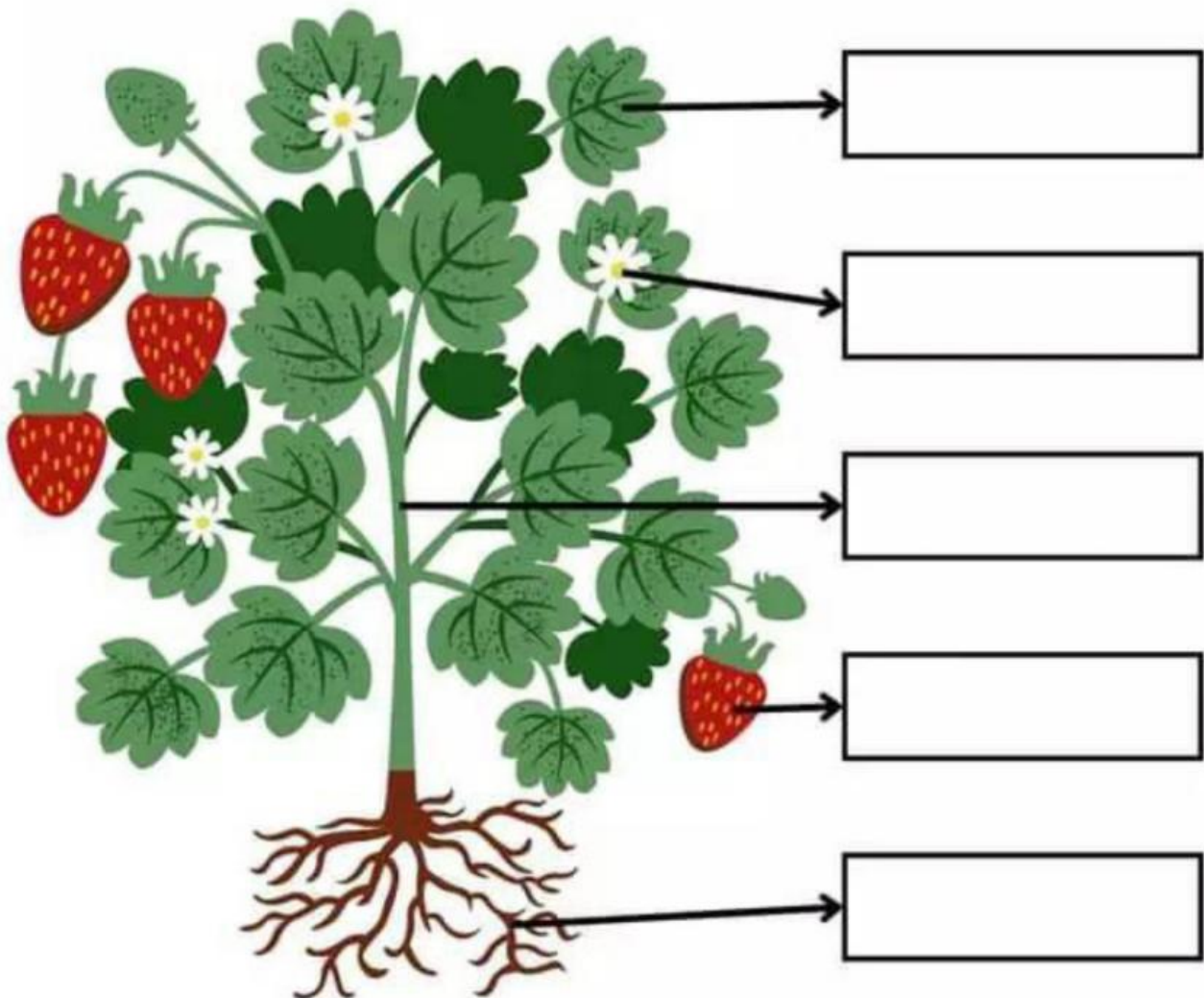


nama:

kelas:

Bagian Tumbuhan

Tuliskan nama-nama bagian tumbuhan yang tepat pada kotak yang tersedia.



Daftar Kata:

akar bunga daun batang buah

LEMBAR KERJA PESERTA DIDIK "Bagian Tubuh Tumbuhan"

Nama : _____

Kelas : _____

Tuliskan bagian-bagian tumbuhan beserta dengan fungsinya sesuai yang ditunjukkan oleh anak panah!



1 _____ berfungsi _____

2 _____ berfungsi _____

3 _____ berfungsi _____

4 _____ berfungsi _____


5 _____ berfungsi _____

Nama:

Kelas:

BAGIAN-BAGIAN TUMBUHAN

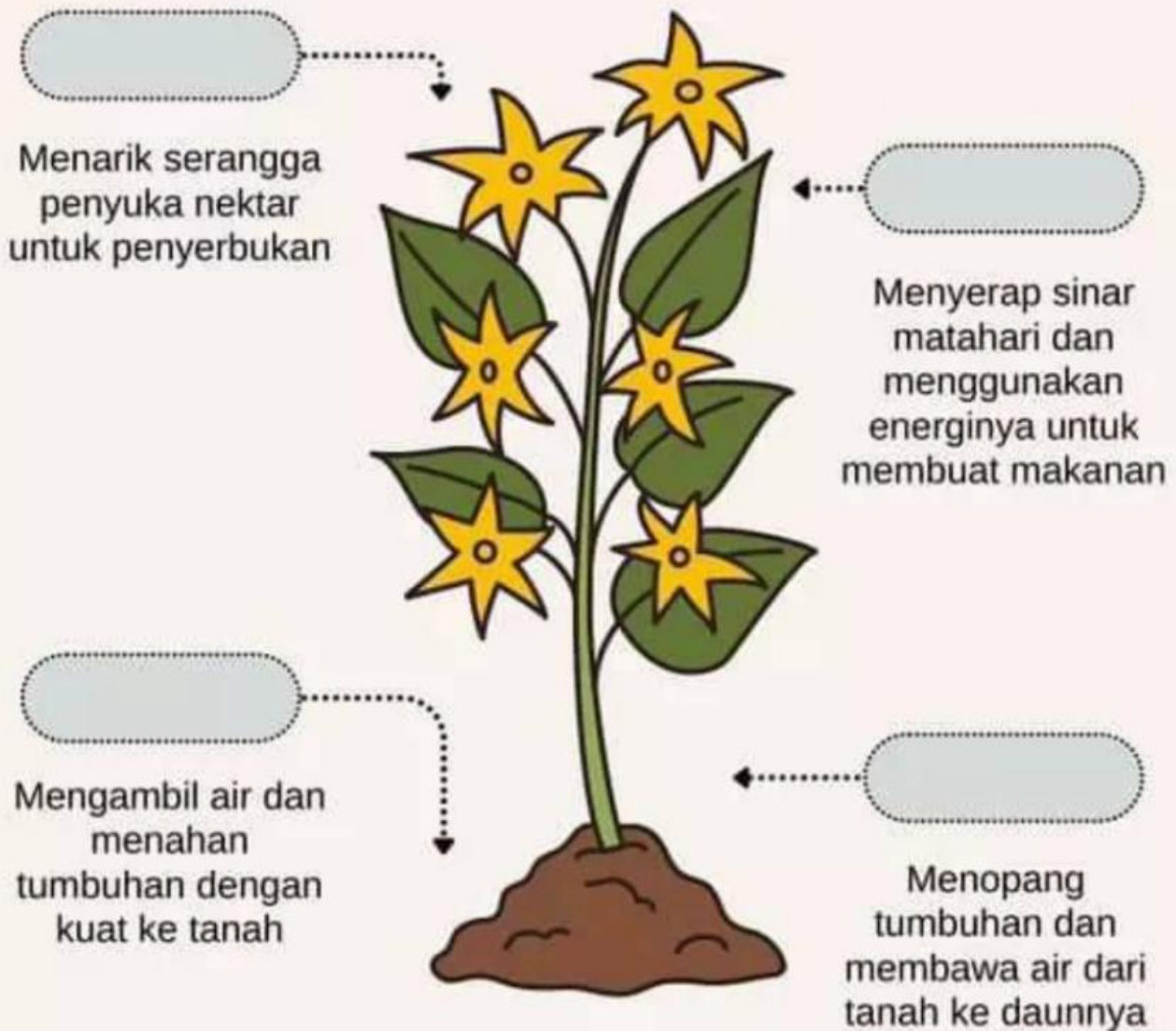
Amatilah gambar tumbuhan berikut. Berilah nama setiap bagian yang ditunjuk dan jelaskan fungsi dari masing-masing bagian!



No.	Nama Bagian Tumbuhan	Fungsi
1.		
2.		
3.		
4.		
5.		

Tumbuhan & Bagian-Bagiannya

Seret dan letakkan setiap kotak untuk melabeli bagian tumbuhan. Fungsi semua bagian tumbuhan sudah dituliskan.



Daun

Bunga

Batang

Akar


LKPD

Bagian-Bagian Tumbuhan

≡

Batang

📷



1

Ceritain dong, apa sih guna batang pada tumbuhan? ✓✓

2

Batang kayu mengandung kambium, lho. Apa sih fungsinya? ✓✓

📷

📧

1

Pernahkah kamu melihat bunga pada tumbuhan? Menurut kamu, apakah semua tumbuhan memilik bunga? ✓✓

2

Tahukah kamu, kalau lebah berperan dalam proses perkembangan tumbuhan. proses apakah itu? ✓✓

📷

📧

≡

Bunga

📷



LKPD

Bagian-Bagian Tumbuhan

Nama:



Kelas:



Tulishlah jawaban kamu pada kolom yang disediakan!



Daun

1

Bentuk daun bermacam-macam dan unik, coba sebutkan apa saja itu? ✓✓

2

Di dalam daun terkandung klorofil (zat hijau). Apa sih fungsi klorofil? ✓✓

1

Ada dua macam akar, apakah kalian tahu apa saja itu? ✓✓

2

Kira-kira kalau tanaman nggak punya akar, bakal jadi gimana ya? ✓✓

Akar