



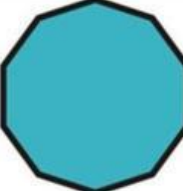







# Polígonos



Los polígonos se clasifican por el número de sus lados.

1. Complete la siguiente tabla

Polígono	Número de Lados	Polígono	Número de Lados
			
			
			
			
			

9	5	7	11	6
4	8	10	3	12

**2. Arrastra el nombre que le corresponde de acuerdo con el número de lado:**

Tiene 5 Lados \_\_\_\_\_

Tiene 3 lados \_\_\_\_\_

Tiene 10 lados \_\_\_\_\_

Tiene 4 lados \_\_\_\_\_

Tiene 7 lados \_\_\_\_\_

Tiene 9 lados \_\_\_\_\_

Tiene 12 lados \_\_\_\_\_

Tiene 6 lados \_\_\_\_\_

Tiene 8 lados \_\_\_\_\_

Tiene 11 lados \_\_\_\_\_



Triángulo	Heptágono	Cuadrado	Octágono	Hexágono
Dodecágono	Eneágono	Pentágono	Decágono	Undecágono