



SD NEGERI
RIMBERIO 1

LATIHAN SOAL

METODE GABUNGAN



1. Perhatikan ilustrasi dibawah ini!



Rp. 34.500



Rp. 37.500

Tentukan masing-masih harga dari minuman tersebut dengan menuliskan jawaban yang benar pada kolom yang telah disediakan!


Air mineral

Air soda

2. Perhatikan ilustrasi dibawah ini!




+



= Rp. 65.000



+



= Rp. 45.000

Berapakah jawaban yang tepat untuk ilustrasi dibawah ini?



+



=

3. Perhatikan ilustrasi dibawah ini!




= Rp. 63.000



= Rp. 33.000

Berdasarkan ilustrasi diatas, jawaban benar untuk ilustrasi dibawah ini adalah?



Pilih salah satu jawaban dibawah ini dengan menarik jawaban yang benar!

Rp. 16.000

Rp. 29.000

Rp. 32.000

Rp. 21.000