



ESCUELA DE EDUCACIÓN BÁSICA  
"SEÑOR DE LA BUENA ESPERANZA"  
AMIE 09H00226

EVALUACIÓN DEL III TRIMESTRE  
MATEMÁTICA  
2DO. GRADO (NEE)



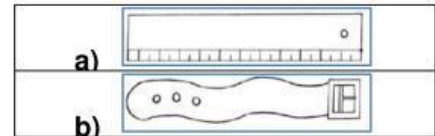
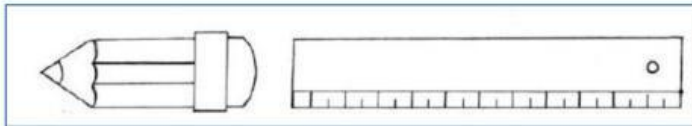
NOMBRE DEL ESTUDIANTE \_\_\_\_\_

DOCENTE: Lcda. Cinthya V. León Quintero

FECHA: \_\_\_\_\_

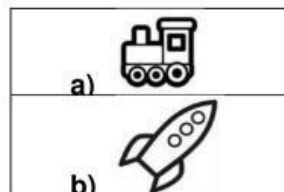

1. Marca los objetos que son más largos

(1 Punto)





2. Selecciona en el objeto pequeño

(1 Punto)





3. Qué objeto que están arriba de la mesa

(1 Punto)



4. Encierra en un círculo el objeto que está cerca de la lana

(1 Punto)



5. Pinto tantos como indica el número

(1 Punto)



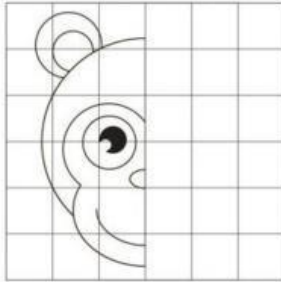
a) 5
b) 6



ESCUELA DE EDUCACIÓN BÁSICA  
"SEÑOR DE LA BUENA ESPERANZA"  
AMIE 09H00226


6. Utiliza la cuadrícula para completa la simetría

(1 Punto)




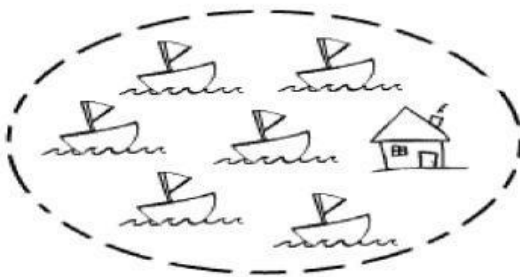
7. Une la figura geométrica y el objeto que tiene la misma forma

(1 Punto)

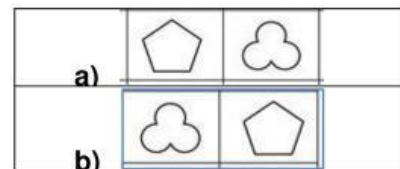
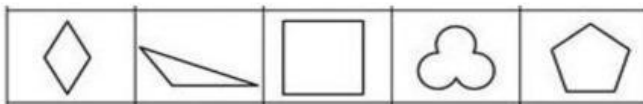


8. Identifica y tacha la imagen que no pertenece al grupo de conjuntos.

(1 Punto)



9. Observa las figuras geométricas que es igual a las que están del lado izquierdo (1 Punto)



10. Cuenta la figura y selecciona lo correcto.

(1 Punto)

