



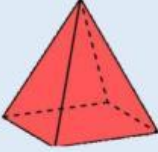
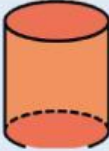


Evaluación Sumativa

Tema: Área Lateral y Volumen de los Cuerpos Geométricos

Estudiante:

Grupo:

Indicaciones: Considere los datos dados para calcular lo solicitado y luego complete el cuadro con la información correcta.

Cuerpo Geométrico	Datos	Nombre	Área Lateral	Volumen
	$\text{lado} = 3\text{ cm}$			
	$\text{radio} = 4\text{ cm}$			
	$\text{longitud de lado de la base} = 4\text{ cm}$ $\text{altura de la pirámide} = 6\text{ cm}$			
	$\text{radio de la base} = 3\text{ cm}$ $\text{altura} = 7\text{ cm}$			
	$\text{lado} = 4\text{ cm}$ $\text{ancho} = 3\text{ cm}$ $\text{altura} = 5\text{ cm}$			
	$\text{radio de la base} = 3\text{ cm}$ $\text{altura} = 5\text{ cm}$			

Profa. Yurisnelly Arenas González