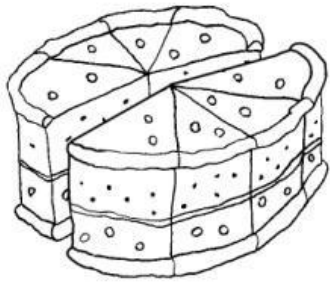


LE FRAZIONI

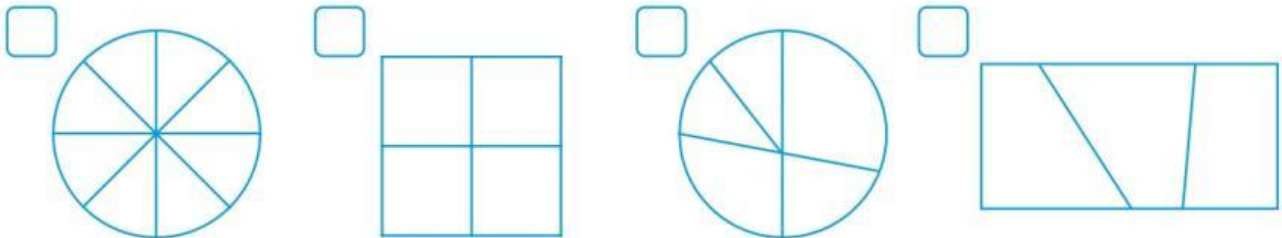
La frazione è una parte di un intero.



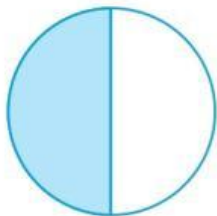
4 ← il numeratore indica le parti considerate
— la linea indica che l'intero è stato diviso
8 ← Il denominatore indica in quante parti è stato diviso l'intero

Ogni parte in cui è stato diviso l'intero si chiama **unità frazionaria**.

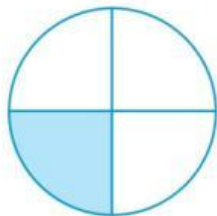
★ **INDICA** con una X le figure che rappresentano l'intero diviso in parti uguali.



★ **SCRIVI** l'unità frazionaria corrispondente a quella rappresentata.



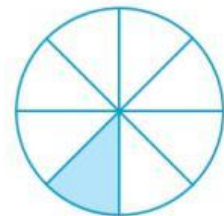
$\frac{1}{2}$



.....
.....



.....
.....



.....
.....

★ **RAPPRESENTA** sul quaderno le seguenti frazioni:

$\frac{1}{3}$

$\frac{1}{5}$

$\frac{1}{8}$

$\frac{1}{6}$

$\frac{1}{2}$

$\frac{1}{4}$

Comprendere il concetto di frazione e di unità frazionaria.

Le frazioni