

LEMBAR KERJA PESERTA DIDIK  
KELAS X

Nama:




Kelas:

# Ciri-Ciri Makhluk Hidup

## KEGIATAN 1 MENGIDENTIFIKASI CIRI BENDA DAN MAKHLUK HIDUP

Identifikasi dan kelompokkan ke dalam tabel yang sesuai!



BENDA TAK HIDUP		MAKHLUK HIDUP	
			
			

**LEMBAR KERJA PESERTA DIDIK  
KELAS X**

**Nama:**

**Kelas:**

## Ciri-Ciri Makhluk Hidup

Lakukan pengamatan terhadap kuda di padang rumput dan sepeda motor pada gambar berikut. Beri tanda ceklis apabila pernyataan sesuai!



CIRI-CIRI	KUDA	SEPEDA MOTOR
Bernapas		
Bergerak		
Berkembangbiak		
Tumbuh dan Berkembang		
Memerlukan Makan		
Mengeluarkan Zat Sisa		
Peka Terhadap Rangsangan		
Berdaotasi		

LEMBAR KERJA PESERTA DIDIK  
KELAS X

Nama:

Kelas:

## Ciri-Ciri Makhluk Hidup

Amatilah video berikut!



Berdasarkan hasil pengamatan dari video yang sudah ditonton maka tuliskan pada tabel, apa saja ciri makhluk hidup dan tak hidup?

N O	Objek	Ciri yang diamati					
		Bernapas	Bergerak	Iritabilitas	Makan & Minum	Tumbuh	Berkembangbiak
1							
2							
3							
4							
5							

**LEMBAR KERJA PESERTA DIDIK  
KELAS X**

**Nama:**

**Kelas:**

## Ciri-Ciri Makhluk Hidup

N O	Objek	Ciri yang diamati					
		Bernapas	Bergerak	Iritabilitas	Makan& Minum	Tumbuh	Berkemba ngbiak
6							
7							
8							
9							
10							



**LEMBAR KERJA PESERTA DIDIK  
KELAS X**

**Nama:**

**Kelas:**

## Ciri-Ciri Makhluk Hidup

**Pilihlah jawaban yang dianggap paling benar!**

1. Kelinci yang hidup di padang pasir memiliki warna rambut coklat yang menyerupai warna pasir. Hal ini menunjukkan salah satu ciri makhluk hidup yaitu ....

- a. Irritabilitas
- b. Beradaptasi
- c. Berkembang biak
- d. Memerlukan makanan

2. Dono menangkap seekor belalang, kemudian menyimpannya dalam plastik tertutup rapat. Keesokan harinya belalang tersebut telah mati. Ciri makhluk hidup yang harus diperhatikan Dono adalah ....

- a. makan
- b. tumbuh
- c. bernapas
- d. berkembang biak

3. Perhatikan pernyataan berikut!

- 1. Menutupnya daun putri malu bila disentuh
- 2. Bertambahnya besarnya batang jambu biji
- 3. Berbuahnya pada tanaman mangga

Ciri makhluk hidup yang dilakukan oleh tanaman

ini secara berurutan adalah ....

- a. peka terhadap rangsangan, tumbuh, dan berkembang biak
- b. Makan
- c. bergerak, peka terhadap rangsangan, dan berkembang biak

- b. beradaptasi, peka terhadap rangsangan, dan berkembang biak
- c. peka terhadap rangsangan, memerlukan makanan, dan berkembang biak

4. Sepeda motor tidak termasuk dalam makhluk hidup, karena sepeda motor....

- a. bergerak
- b. berkembang biak
- c. membutuhkan bahan bakar
- d. mengeluarkan zat sisa

5. Perhatikan gambar dibawah ini



Salah satu ciri makhluk hidup yang sesuai dengan gambar tersebut adalah ...

- a. Memerlukan makan
- b. Tumbuh dan berkembang
- c. Adaptasi dengan lingkungan
- d. Bergerak

LEMBAR KERJA PESERTA DIDIK  
KELAS X

Nama:

Kelas:

## Ciri-Ciri Makhluk Hidup

Menjodohkan gambar di bawah ini dengan ciri-ciri makhluk hidup!

1.



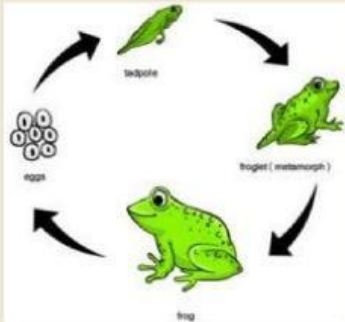
a. Tumbuh dan kembang

2.



b. Bergerak

3.



c. Irritabilitas

4.



d. Memerlukan nutrisi

5.



e. Berkembangbiak